

कोशी प्रदेश

सहायकस्तर तह -४ का प्रश्नोत्तरहरू

पद : खरिदार/सहलेखापाल

समय : ४५ मिनेट

तह : सहायकस्तर चौथो

पूर्णाङ्क : १००

मिति : २०८३/०१/२६

विषय : सामान्य ज्ञान र सामान्य बौद्धिक परीक्षण

उत्तरपुस्तिकामा प्रश्नको KEY अनिवार्य रूपमा उल्लेख गर्नुपर्नेछ । KEY उल्लेख नगरेमा उत्तरपुस्तिका बदर हुनेछ । परीक्षामा पासबुक, क्याल्कुलेटर लगायतका विद्युतीय उपकरणहरू प्रयोग गर्न पाइने छैन ।

१. सोह्रौं योजनाको अन्त्यसम्ममा नेपालको प्रतिव्यक्ति आय कति अमेरिकी डलर पुऱ्याउने लक्ष्य राखिएको छ ?

- (A) २२५६ (B) २२७९ (C) २३५९ (D) २४३९

२. चैते दशैं कहिले पर्दछ ?

- (A) चैत्र शुक्ल अष्टमी (B) चैत्र शुक्ल नवमी (C) चैत्र शुक्ल दशमी (D) चैत्र शुक्ल एकादशी

३. कोशी प्रदेश पर्यटन वर्ष, २०८२ को नारा के रहेको थियो ?

- (A) संरक्षित जैविक विविधता र जलधार कोशी पर्यटन वर्षको आधार

- (B) रमणीय कोशी

- (C) कोशीको गौरव हिमाली शान, पर्यटन वर्षमा सबैलाई सम्मान

- (D) कञ्चनजङ्घाको छायाँ, कोशी प्रदेशको माया

४. कोशी प्रदेशको क्षेत्रफल बढी जनसङ्ख्या भएको स्थानीय तह कुन हो ?

- (A) विराटनगर (B) इटहरी (C) धरान (D) दमक

५. "माइक्रोस्कोप" को प्रयोग किन गरिन्छ ? तल दिइएका विकल्पमध्येबाट सही उत्तर छान्नुहोस् ।

- (A) कुनै वस्तु कति टाढा छ थाहा पाउन

- (C) कुनै वस्तु कति शुद्ध छ थाहा पाउन

- (B) कुनै सानो वस्तु ठूलो देखिएको थाहा पाउन

- (D) कुनै वस्तु कति गरूङ्गो छ थाहा पाउन

६. Mobile Phone को आविष्कार कसले गरेका हुन् ?

- (A) James Watson

- (C) John Logie Baird

- (B) Alexander Graham Bell

- (D) Martin Cooper

७. टेलिमेडिसिन प्रविधिको मुख्य उद्देश्य के हो ?

- (A) अस्पतालमा सेवाग्राही घटाउन

- (C) औषधिको उत्पादन गर्नु

- (B) टाढाबाट स्वास्थ्य सेवा प्रदान गर्नु

- (D) रोगको अनुसन्धान गर्नु

८. विश्वमा सबैभन्दा बढी आप्रवासी बसोबास गर्ने देश कुन हो ?

- (A) क्यानाडा (B) अष्ट्रेलिया (C) अमेरिका (D) जर्मनी

९. जलवायु परिवर्तन सम्बन्धी कोपेनहेगन सम्मेलन कहिले भएको थियो ?

- (A) सन् २००८ (B) सन् २००९ (C) सन् २०१० (D) सन् २०११

१०. जैविक विविधता दिवस, २०२४ को नारा के थियो ?

(A) Harmony with nature and sustainable development

(B) Be part of the plan

(C) From agreement to action: Build back biodiversity

(D) Building a shared future for all life

११. "प्रत्येक व्यक्तिलाई निज विरुद्ध गरिएको कारबाहीको जानकारी पाउने हक हुन्छ" भनेर नेपालको संविधानमा कहाँ उल्लेख गरिएको छ ?

(A) धारा १७ को उपधारा (२) (C) धारा २३ को उपधारा (२)

(B) धारा २२ को उपधारा (१) (D) धारा २० को उपधारा (८)

१२. नेपालको संविधान अनुसार "परिवार नियोजन र जनसङ्ख्या व्यवस्थापन" कसको अधिकार क्षेत्र भित्र पर्दछ ?

(A) संघ (B) प्रदेश (C) स्थानीय तह (D) संघ र प्रदेशको साझा अधिकार

१३. नेपालको संविधान बमोजिम मृत्युदण्डको सजाय हुने गरी कानून नबनाउने ग्यारेन्टी कुन हक अन्तर्गत पर्दछ ?

(A) सम्मानपूर्वक बाँच्न पाउने हक (C) स्वतन्त्रताको हक

(B) समानताको हक (D) न्याय सम्बन्धी हक

१४. तलका मध्ये कुन भाषा संयुक्त राष्ट्र संघमा आधिकारिक मान्यता पाएको भाषा होइन ?

(A) चिनियाँ (B) जापानी (C) रूसी (D) अरबी

१५. सार्क दिवस (SAARC Day) कुन दिन मनाइन्छ ?

(A) मार्च २ (B) जनवरी १९ (C) अक्टोबर २५ (D) डिसेम्बर ८

१६. Field Medal कुन विषयमा दिइने विश्व प्रसिद्ध पुरस्कार हो ?

(A) Science (B) Mathematics (C) Medicine (D) Literature

१७. वैदेशिक रोजगारीमा रहेका नेपाली श्रमिकको सुरक्षाका लागि सन् २०२५ जनवरीमा कुन देशसँग श्रम सम्झौता भएको छ ?

(A) कतार (B) जापान (C) साउदी अरेबिया (D) रोमानिया

१८. सत्यमोहन जोशी नेपाल भाषा साहित्य सिरपा (पुरस्कार), २०८१ कसलाई प्रदान गरियो ?

- (A) नीलम् प्रसाद कायस्थ (C) परशु प्रधान
(B) धुस्वाँ सायमी (D) अशेष मल्ल

१९. पञ्चरत्नमा तलका मध्ये कुन पर्दैन ?

- (A) सुन (B) चाँदी (C) हिरा (D) नीर

२०. त्रिभुवन विश्वविद्यालयका प्रथम उपकुलपति को हुन् ?

- (A) सुवर्ण शमशेर (B) डा. खड्ग के.सी. (C) केदार भक्त माथेमा (D) डा. केशरंजग बराल

२१. क्रिकेट खेल अन्तर्गत नेपाल प्रिमियर लिग (NPL) दोस्रो संस्करणको विजेता टिम कुन हो ?

- (A) जनकपुर बोल्ट्स (B) सुदूरपश्चिम रोयल्स (C) विराटनगर किंग्स (D) लुम्बिनी लायन्स

२२. "करण" शब्दमा तलको मध्ये कुन उपसर्ग लगाएको खण्डमा "कुनै कुरा अपनाउनु वा मान्नु" भन्ने अर्थ आउँछ ?

- (A) सम् (B) अनु (C) उप (D) निरा

२३. "सागर घर जान्छ" यो वाक्यमा घर शब्दको पदवर्ग के हो ?

- (A) नाम (B) सर्वनाम (C) विशेषण (D) क्रिया विशेषण

२४. नेपालको कुल गार्हस्थ्य उत्पादनको करिब कति प्रतिशत विप्रषण (Remittance) बाट प्राप्त हुने गरेको छ ?

- (A) 20% (B) 25% (C) 33% (D) 38%

२५. तलका मध्ये कुन आवधिक योजनामा औसत आर्थिक वृद्धिदर उच्च रहेको थियो ?

- (A) एघारौँ (B) बाह्रौँ (C) तेह्रौँ (D) चौधौँ

२६. तलको अक्षर क्रममा प्रश्नवाचक चिन्ह (?) मा कुन अक्षर आउँछ ?

G, T, I, R, L, O, P, K, U, ?

- (A) E (B) F (C) G (D) H

२७. वृत्त (Circle) : परिधि (Circumference) :: वर्ग (Square) : ? को समरूपता (Analogy) पूरा गर्नुहोस् ।

- (A) परिमिति (Perimeter) (C) आयतन (Volume)
(B) क्षेत्रफल (Area) (D) विकर्ण (Diagonal)

२८. Teacher शब्दको कोड के हुन्छ ? तलको जानकारीको आधारमा पत्ता लगाउनुहोस् ।

Royal black car लाई M5R2, L5B1, S3C1 को रूपमा कोड गरिएको छ ।

Beautiful yellow flower लाई M9B5, X6Y2, S6F2 को रूपमा कोड गरिएको छ ।

Talent young brother लाई U6T2, H5Y2, S7B2 को रूपमा कोड गरिएको छ ।

- (A) S7S2 (B) S7T2 (C) S6T3 (D) S7T3

२९. यदि दक्षिण-पूर्वलाई उत्तर भनिन्छ, उत्तर-पूर्वलाई पश्चिम भनिन्छ भने यही प्रकारले पश्चिमलाई के भनिन्छ ?

- (A) उत्तर-पूर्व (B) उत्तर-पश्चिम (C) दक्षिण-पूर्व (D) दक्षिण-पश्चिम

३०. म्याट्रिक्स पूरा गर्नुहोस् ।

| | | |
|---|---|---|
| G | O | D |
| M | A | N |
| T | ? | R |

- (A) A (B) E (C) I (D) P

३१. तल दिइएको अनुसार प्रश्नचिन्ह भएको ठाउँमा आउने संख्या पत्ता लगाउनुहोस् ।

$$24 : 30 :: 60 : ? :: 120 : 130$$

- (A) 64 (B) 66 (C) 68 (D) 70

३२. दिइएको संख्याको समूहमा रहेको सम्बन्ध पत्ता लगाई सोही प्रकृतिको संख्याको समूह विकल्पबाट छान्नुहोस् ।

$$(9, 5, 704) (6, 2, 212)$$

- (A) (8, 2, 508) (B) (9, 2, 308) (C) (8, 2, 58) (D) (9, 2, 86)

३३. जनावरहरू मन पराउने लीनाको घरमा धेरै कुकुर र बिरालाहरू छन् । उनको घरमा भएका कुकुर र बिरालोको संख्याको अनुपात 1:3 छ । कुकुर र बिरालाहरूको कुल संख्या 8 भए लीनासँग बिरालाहरू कति वटा छन् ?

- (A) 4 (B) 5 (C) 6 (D) 7

३४. शृङ्खला पूरा गर्नुहोस् ।

$$105, 99, 81, 72, ?, 54$$

- (A) 65 (B) 64 (C) 63 (D) 62

३५. देहायको तालिकामा छ वटा अक्षरहरू छन् । यी अक्षरहरूको मान 1-6 सम्म रहेका छन् । उपलब्ध जानकारीको आधारमा C को मान निर्धारण गर्नुहोस् ।

| | | |
|---|---|---|
| A | B | C |
| D | E | F |

जानकारी :

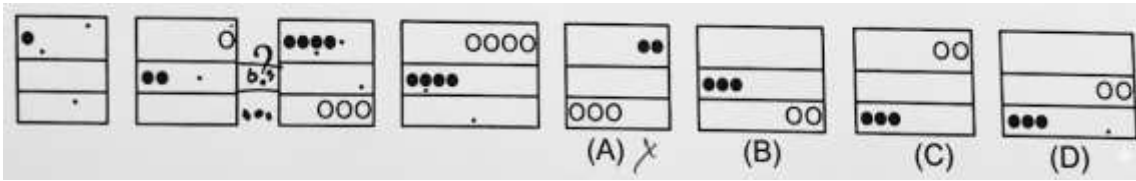
१. $(B \times B) + B = A$

२. $A + C + E = 14$

३. C, D, E, F क्रमशः बढ्दो क्रममा रहेका छन् ।

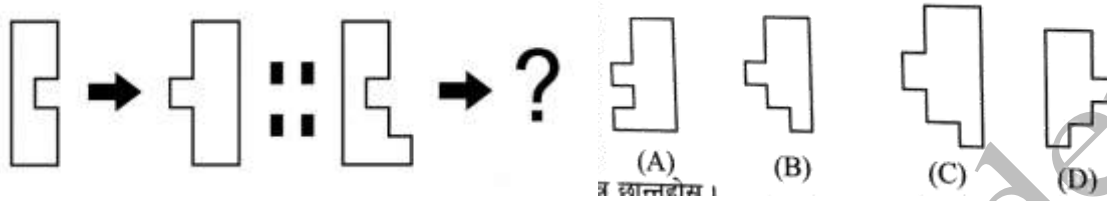
- (A) 6 (B) 5 (C) 4 (D) 3

३६. चित्रको क्रममा खाली स्थानमा कुन विकल्प उपयुक्त हुन्छ ?



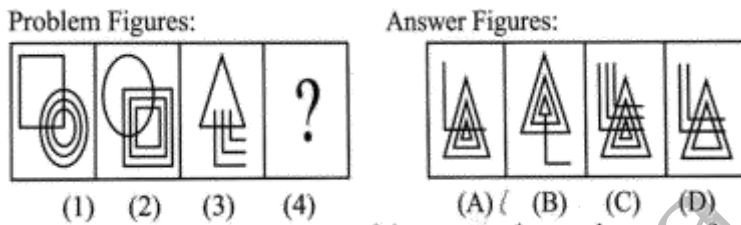
Ans : (D)

३७. पहिलो जोडीमा स्थापित सम्बन्धलाई कायम गरी दोस्रो जोडी पूरा गर्न कुन नयाँ आकृति वा ढाँचा हो ?



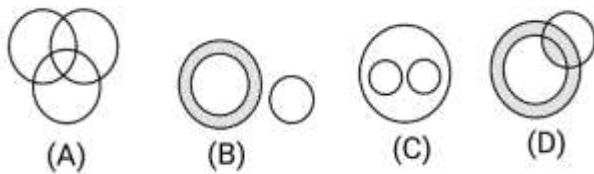
Ans : (B)

३८. उत्तर चित्रहरूबाट प्रश्नचित्र (?) लाई प्रतिस्थापन गर्ने उपयुक्त चित्र छान्नुहोस् ।



Ans : (A)

३९. देहायको कुन भेन चित्रले महिला, आमा र वकिल (Female, Mother and Lawyer) बीचको सम्बन्धलाई सही रूपले व्यक्त गर्दछ ?



Ans : (D)

४०. तलको चित्रमा कति वटा त्रिभुजहरू छन् ?



Ans : (C) 17

४१. संसारकै सबैभन्दा गहिरो समुद्री बिन्दु कुन हो ?

(A) Factorian Deep (B) Sirena Deep (C) Emerald Deep

(D) Challenger Deep

४२. तलका मध्ये कुन भनाइ गलत छ ?

(A) विश्वको सबैभन्दा ठूलो भूपरिवेष्टित देश अफगानिस्तान हो ।

(B) अष्ट्रेलियामा पाइने घाँसे मैदानलाई डाउन्स भनिन्छ ।

(C) दक्षिण अमेरिकाको सबैभन्दा ठूलो नदी अमेजन हो ।

(D) साँढे जुधाइ स्पेनको राष्ट्रिय खेल हो ।

43. छायाँनाथ राष्ट्रिय निकुञ्जको क्षेत्रफल वर्ग कि.मि. रहेको छ ।

(A) ६२४

(B) ५४३

(C) ५५२

(D) ९६८

44. लिच्छवी वंशका संस्थापक र आदिपुरुष कसलाई मानिन्छ ?

(A) सुपुष्प

(B) मानदेव

(C) उदय देव

(D) नरेन्द्र देव

45. पहिलो विश्वयुद्ध मुख्यतः कुन महादेशमा भएको थियो ?

(A) एसिया

(B) युरोप

(C) अफ्रिका

(D) उत्तर अमेरिका

46. नेपालको प्रथम महिला प्रधानमन्त्री सुशीलाको कार्की कहिले नेपालको प्रधानमन्त्री नियुक्त हुनुभएको थियो ?

(A) २०८२ भाद्र २७ गते

(C) २०८२ भाद्र २९ गते

(B) २०८२ भाद्र २८ गते

(D) २०८२ भाद्र ३० गते

47. नेपालका कुन जातिले चोनाम पर्व मनाउँदछन् ?

(A) चेपाङ

(B) चौधरी

(C) थारु

(D) राजवंशी

48. तलको कुन भनाइ सही होइन ?

(A) "घुम्ने मेच माथि अन्धो मान्छे" कविताका संग्रहका लेखक भूमी शेरचन हुन् ।

(B) "सुम्निमा" उपन्यासका लेखक विश्वेश्वर प्रसाद कोइराला हुन् ।

(C) "नासो" कथा संग्रहका लेखक गुरु प्रसाद मैनाली हुन् ।

(D) "सेतो बाघ" उपन्यासका लेखक पुष्कर शमशेर राणा हुन् ।

49. वेदका सम्बन्धमा कुन कथन गलत छ ?

(A) सामवेदबाट संगीतको उत्पत्ति भएको हो ।

(B) वेदहरूमा सबै भन्दा पुरानो यजुर्वेद हो ।

(C) सबै भन्दा पछाडि रचना भएको वेद अथर्ववेद हो ।

(D) ऋग्वेद, यजुर्वेद, सामवेद र अथर्ववेद गरी वेद चार प्रकारका छन् ।

अब मात्र रु. ३,००० मा ना.सु. + खरिदार प्रथम पत्रको तयारी कक्षा १ वर्ष सम्मको लागि गुरुमन्त्र एकेडेमीमा

50. राष्ट्रिय जनगणना, २०७८ अनुसार नेपालमा जातजातिको संख्या कति रहेको छ ?

(A) १४१

(B) १४२

(C) १४३

(D) १४४

समाप्त

सफलताको शुभकामना

गुरुमन्त्र अनलाइन विशेष तयारी कक्षा

संघ तथा सम्पूर्ण प्रदेश

MISSION 2083

ना.सु / खरिदार

प्रथम पत्र I.Q. / G.K.

शुल्क ~~रु. ४०००~~ मात्र
रु. ३०००



G.K.

आसमण उपाध्याय

बेलुका ७:०० बजे



I.Q.

कुमार तिमिल्सिना

बेलुका ८:०० बजे

Our Features

Daily 2 Times Live Classes.

Offline Video Recorded Classes.

PDF Notes Available.

Daily Online Test Exams.

Weekly Feedback Classes.

नयाँ कक्षाहरु आजैबाट सुरु भइरहेको छ ।

एक पटक भर्ना भइसके पछि परीक्षाको अघिल्लो दिनसम्म पढ्न पाइनेछ ।



"सफलताको एक मात्र मन्त्र"

गुरुमन्त्र एकेडेमी

नयाँ बानेश्वर, काठमाडौं



9749344744
9861534895
9817050078

गुरुमन्त्र एकेडेमी (लोक सेवा-शिक्षक सेवा तयारी), नयाँ बानेश्वर, काठमाडौं, फोन नं. 9749344744, 9861534895