

लोक सेवा आयोग

अप्राविधिक तर्फका न्याय, प्रशासन, लेखापरीक्षण र संसद सेवा, राजपत्र अनंकित द्वितीय श्रेणी,
खरिदार वा सो सरह पदको खुला प्रतियोगितात्मक परीक्षाको नमुना प्रश्नपत्र

मिति : २०७९।०४।२४ गते

KEY [B]

समय : ४५ मिनेट

सेट : २

पूर्णाङ्क : १००

विषय : सामान्य ज्ञान तथा आधारभूत कार्यालय सीप परीक्षण

१. क्षेत्रफलको आधारमा सबैभन्दा सानो प्रदेश कुन हो ?

- | | |
|-------------------|------------------------|
| A. कर्णाली प्रदेश | C. सुदुर पश्चिम प्रदेश |
| B. गण्डकी प्रदेश | D. प्रदेश नं २ |

२. स्थानीय सडक सञ्जालको पहुँच सबैभन्दा कम भएको प्रदेश कुन हो ?

- | | |
|----------------|----------------|
| A. गण्डकी | C. सुदुरपश्चिम |
| B. प्रदेश नं ३ | D. कर्णाली |

३. देहायका मध्ये नगरपालिका विहिन कुन जिल्ला हो ?

- | | |
|------------|-----------------|
| A. रसुवा | C. पूर्वी रुकुम |
| B. मुस्ताङ | D. माथिका सबै |

४. Global Teacher Prize 2020 कसले प्राप्त गरे ?

- | | |
|-----------------------|-------------------|
| A. Ranjitsingh Disale | C. Hanan Al Hornb |
| B. Nanci Atwell | D. Peter Tabich |

५. चर्चित साहित्यक कृति "कोरियाना कफि गफ" का लेखक को हुन् ?

- | | |
|------------------|-----------------|
| A. कुमार नगरकोटी | C. शारदा शर्मा |
| B. नारायण वाग्ले | D. अमर न्यौपाने |

६. पृथ्वीको सबै ठाउँमा रात र दिन बराबर हुने दिन कुन हो ?

- | | |
|------------------|----------------|
| A. २१ जुन | C. २२ डिसेम्बर |
| B. २२ सेप्टेम्बर | D. २३ मार्च |

७. निम्न कथनहरुबारेमा विचार गर्नुहोस् ।

१. तापक्रमको वृद्धिले पृथ्वीको ध्रुवीय क्षेत्रको हिउँ पगलने क्रममा वृद्धि भएको पाइन्छ ।

२. हिउँ पग्लिएपछि समुन्द्रमा पानीको मात्रा बढ्न गई समुन्द्रको सतह बढ्दै गएको छ ।

३. जलवायु परिवर्तनले गर्दा भुमध्ये क्षेत्रमा वर्षाको मात्रा बढ्दै गएको छ भने ध्रुवीय क्षेत्रमा वर्षाको मात्रा घटेको छ ।

माथि उल्लेखित कथनहरुमा कुन सहि छ /कुन कुन सही छ ।

A. १ र २

C. २ र ३

B. १ र ३

D. १, २ र ३

८. कुन देशलाई सेतो हात्तीको देश भनेर चिनिन्छ ?

A. लावोस

C. अष्ट्रेलिया

B. थाइल्याण्ड

D. भारत

९. जिल्ला र विशेषताहरुविच नमिल्ने जोडा कुन हो? कुन कुन हुन् ?

समूह (क)

समूह (ख)

१. नेपालको कान्छो जिल्ला

—पर्वत

२. ज्वालामुखीको चिह्न भएको जिल्ला

—दैलेख

३. नेपालको मरुभूमि

—मुस्ताङ

४. पाणिनी भूमि

—अर्घाखाँची

A. १ मात्र

C. १ र ४ मात्र

B. ४ मात्र

D. १ र ४ मात्र

१०. निम्न वस्तुहरुवारे विचार गर्नहोस् ।

१. ताप्के

२. अम्बा

३. अम्बोरा

४. काठको ठेकी

माथि उल्लेखित वस्तुहरु पाइने स्थान क्रमशः कुन क्रममा सही छन् ।

A. वीरगञ्ज, धुनिवेशी, भक्तपुर, मकवानपुर

C. मकवानपुर, धुनिवेशी, पाल्पा, वीरगञ्ज

B. वीरगञ्ज, धुनिवेशी, पाल्पा, मकवानपुर

D. पाल्पा, मकवानपुर, धुनिवेशी, वैतडी

११. निम्नमध्ये कुन काठमाण्डौंमा अवस्थित छैन?

A. रानीपोखरी

C. सिद्धपोखरी

B. पानीपोखरी

D. कमलपोखरी

१२. सप्तकोशी नदीको सबैभन्दा पुर्वी भाग भएर बहने सहायक नदी हो भने पश्चिमी भाग भएर बहने हो ।

- A. अरुण,लिखु
B. तमोर,लिखु
C. अरुण र इन्द्रवती
D. तमोर र इन्द्रवती

१३. निम्न कथनहरु सही/गलत के हुन् पहिचान गर्नुहोस् ।

१. विषयगत रेखिय क्षेत्रमा सुर्यको प्रकाश सदैव सिधा पर्दछ ।
२. उत्तरी गार्लाद्धमा व्यापारिक वायु दक्षिण-पुर्वबाट उत्तरपुर्वतिर बहन्छ ।
३. मौसमअनुसार वायु दवावमा अन्तर आउनुको कारण तापक्रम प्रमुख हो ।

- A. १ सही २ र ३ गलत
B. ३ सही १ र २ गलत
C. १, ३ सही २ गलत
D. १, २ र ३ सबै सही

१४. अमेरिकी स्वतन्त्रता संग्राममा विद्रोहीलाई सबैभन्दा बढी सहयोग गर्ने राष्ट्र कुन थियो ?

- A. रुस
B. जमर्नी
C. फ्रान्स
D. जापान

१५. स्वेत विनायक जात्राको प्रचलन कसले चलाएका हुन् ?

- A. महेन्द्र मल्ल
B. अंशुवर्मा
C. गुणकामदेव
D. प्रताप मल्ला

१६. नेपाली कलाक्षेत्रका माइकल एन्जेलो भनेर कसलाई चिनिन्छ ?

- A. माथवरसिंह थापा
B. कमलराज रेग्मी
C. बेखराज शाक्य
D. जयपृथ्वी बं सिंह

१७. थकालीहरुको ल्हा फेवा चाड कति-कति वर्षमा मनाइन्छ ?

- A. ५/५ वर्षमा
B. ६/६ वर्षमा
C. १२/१२ वर्षमा
D. १०/१० वर्षमा

१८. सर्वोच्च अदालतको अधिकार क्षेत्रका विषयमा जोडा मिलाउनुहोस् ।

समूह क

- a. असाधारण अधिकार क्षेत्र
b. प्रारम्भिक अधिकार क्षेत्र
c. पुनरावेदन अधिकारक्षेत्र

समूह ख

१. दश वर्ष वा सो भन्दा माथिको जेल सजाय
२. मौलिक हक सम्बन्धि
३. अदालतको मानहानी सम्बन्धि मुद्दा

कोड (Code)

	(a)	(b)	(C)
A.	3	1	2
B.	2	1	3
C.	1	2	3
D.	2	3	1

१९. संघ प्रदेशबीच तथा प्रदेश-प्रदेशबीच उत्पन्न राजनीतिक विवाद समाधान गर्न गठन हुने अन्तर प्रदेश परिषद्को व्यवस्था वर्तमान संविधानको कति धारामा उल्लेख गरिएको छ ?

- | | |
|-------------|-------------|
| A. धारा २३३ | C. धारा २३५ |
| B. धारा २३४ | D. धारा २३६ |

२०. शरणार्थीको मानवअधिकारको लागि संयुक्त राष्ट्रसंघीय उच्च आयुक्तको प्रधान कार्यालय कहाँ रहेको छ ?

- | | |
|-------------|-----------|
| A. हेग | C. जेनेभा |
| B. न्युवर्क | D. लण्डन |

२१. शाहकाल (वि.सं १८२५-१९०३) का निम्न पदहरूलाई मर्यादाक्रम अनुसार मिलाउनुहोस् ।

- | | | | |
|---------------|---------------|----------|-------------|
| १. काजी | २. खरिदार | ३. सरदार | ४. चौतारिया |
| A. ४, १, ३, २ | C. १, ३, ४, २ | | |
| B. ४, ३, २, १ | D. १, २, ३, ४ | | |

२२. उच्चस्तरीय प्रशासन सुधार आयोग, २०४८ का मुख्य सिफारिस छानी उत्तर पहिचान गर्नुहोस् ।

१. कर्मचारी संख्या घटाउने
२. मन्त्रालयको संख्या घटाउने
३. महिला तथा बालबालिका आयोग गठन गर्ने
४. एकिकृत निजामति सेवा गठन गर्ने
५. राष्ट्रिय मानवअधिकार आयोगको स्थापना

- | | |
|--------------------------|-------------------------|
| A. १, २, ३, ४, ५ सबै ठीक | C. १, २, ३, ५ ठीक ४ गलत |
| B. १, २, ३, ४ ठीक ५ गलत | D. १, २, ४, ५ ठीक ३ गलत |

२३. जोडा मिलाउनुहोस् ।

समूह (क)

- अर्थ मन्त्रालय
- राष्ट्रिय योजना आयोग
- विधायिका
- विषयगत मन्त्रालय

समूह (ख)

- बजेट कार्यन्वयन
- बजेट अनुमान
- बजेट स्वीकृति
- साधन बाँडफाँडको प्राथमिकता

(a) (b) (c) (d)

- A. 2 4 3 1
B. 3 2 4 1
C. 1 2 3 4
D. 4 2 3 1

२४. नेपालको संविधानको सम्बन्धमा देहायको विशेषता मध्ये कुन विशेषता मिल्दैन ?

- सार्वभौम अधिकार जनातामा निहित गरेको छ ।
- नेपाललाई धर्म निरपेक्ष मूलुक भनि घोषणा गरेको छ ।
- प्रधानमन्त्रीलाई राज्य प्रमुख बनाएको छ ।
- राजतन्त्रको अन्त्य गरेको छ ।

२५. तल उल्लेखित वाक्यहरु सही/गलत के हुन् ? पहिचान गर्नुहोस् ।

- निर्देशक सिद्धान्तको कार्यन्वयन गर्न अदालतमा प्रश्न उठाउन सकिँदैन ।
- सरकारले निर्देशक सिद्धान्तको कार्यन्वयन सम्बन्धमा प्राप्त उपलब्धीबारे राष्ट्रपति समक्ष प्रतिवेदन पेश गर्नु पर्छ ।

- A. दुबै गलत
B. दुबै सही
C. १ र २ सही
D. १ र २ गलत

२६. निम्नमध्ये कुन कुन जोडा गलत छन् ? पहिचान गर्नुहोस् ।

- चिपको आन्दोलन – वन संरक्षण
- रामसार कन्भेन्सन– सिमसार संरक्षण
- क्योटो प्रोटोकल–ओजन तह संरक्षण
- मन्ट्रियल प्रोटोकल–हरितगृह ग्यास उत्सर्जनमा कटौति

A. १२३

C. १२४

B. २२३

D. ३२४

२७. नेपालमा सबैभन्दा बढी घाँसे मैदान भएको क्षेत्र कुन हो ?

A. तराइ क्षेत्र

C. पहाडी क्षेत्र

B. चुरे क्षेत्र

D. हिमाली क्षेत्र

२८. नेपालमा सर्वप्रथम स्थापना भएको संरक्षण क्षेत्र कुन हो ?

A. अन्नपूर्ण संरक्षण क्षेत्र

C. गौरीशंकर संरक्षण क्षेत्र

B. कंचनजंगा संरक्षण क्षेत्र

D. मनास्लु संरक्षण क्षेत्र

२९. २०६८ सालको जनगणनाअनुसार दोस्रो कम जनसंख्या भएको जाती निम्नमध्ये कुन हो ?

A. कुसुण्डा

C. नुराड

B. कलार

D. लोहरुङ

३०. WHO का अनुसार किशोर अवस्था भनेर कुन समूहलाई चिनिन्छ ?

A. १०-१९ वर्ष

C. १३-१९ वर्ष

B. १०-१५ वर्ष

D. १३-२४ वर्ष

३१. A ले कुनै काम १८ दिनमा सक्छ। B ले उक्त काम १५ दिनमा सक्छ। यदि B ले १० दिन सम्म उक्त काम गरी छोड्यो भने A ले उक्त काम कति दिनमा सक्ला ?


A. ५

C. ६

B. ७

D. ८

३२. तलको चित्रमा त्रिभुजको संख्या पत्ता लगाउनुहोस् ?



A. 16

C. 14

B. 15

D. 13

३३. सृष्टि र अनिता साथि हुन्। सागर श्यामको भाई र खेमको छोरा हो। श्यामले अज्जुसँग विवाह गरेको छ। श्यामको एकमात्र बहिनी सृष्टि हो भने खेम अज्जुको के नाता पर्छ ?

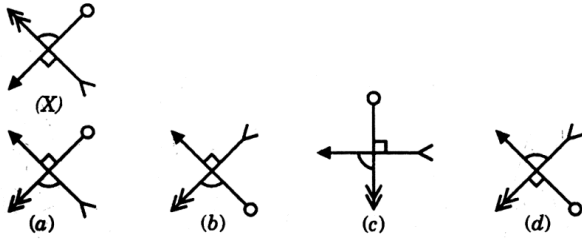
A. बुबा

B. ससुरा

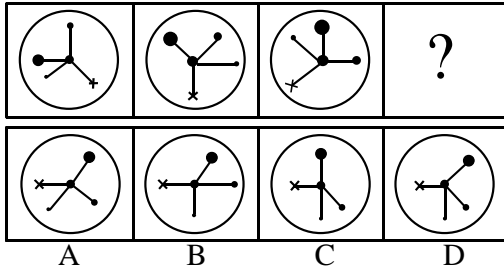
C. मामा

D. भाई

३४. तलको चित्रको पानी आकृति पत्ता लगाउनुहोस् ?



३५. सहि विकल्प छनी तलको चित्र पुरा गर्नुहोस् ?



३६. ६ देखी ३४ सम्मका ५ ले भागजाने रुढ संख्याहरुको औसत कति हुन्छ ?

A. १८

C. २४

B. २०

D. ३०

३७. तलको सही सम्बन्ध देखाउने भेनचित्र छान्नुहोस् ।

मानिस, खेलाडी, पुरुष



३८. २० पैसाका र २५ पैसाका गरी जम्मा ३२४ वटा सिक्काको जम्मा मूल्य ७१ छ भने २५ पैसाका सिक्काको संख्या कति होला ?


A. १२०

C. १४४

B. १२४

D. २००

३९. तलको चित्रमा त्रिभुजहरुको संख्या कति होला ?



A. ८

B. २०

C. 24

D. 28

४०. एउटा घडि ३९ दिनमा १ मिनेट १८ सेकेण्ड ढिला जान्छ भने १ दिनमा कति समय ढिला जान्छ होला ?

A. १ सेकेण्ड

C. ३ सेकेण्ड

B. २ सेकेण्ड

D. ४ सेकेण्ड

४१. If 'orange' is called 'butter', 'butter' is called 'soap', 'soap' is called 'ink', 'ink' is called 'honey' and 'honey' is called 'orange', which of the following is used for washing clothes ?

A. Honey

C. Orange

B. Butter

D. Ink

४२. Find the missing term in the following series ?

AI, BJ, CK, ?

A. DL

C. GH

B. DM

D. LM

४३. रमेश सीता र हेमराजको उमेरको कुल योग ८० वर्षको छ। तीन वर्ष अघि उनीहरुको कुल उमेर कति थियो ?

A. ७१ वर्ष

C. ७४ वर्ष

B. ७२ वर्ष

D. ७७ वर्ष

४४. Arrange the following in a meaningful sequence:

1. Rain 2. Monsoon 3. Rescue 4. Flood 5. Shelter 6. Relief

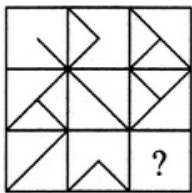
A. 1, 2, 3, 4, 5, 6

C. 2, 1, 4, 3, 5, 6

B. 1, 2, 4, 5, 3, 6

D. 4, 1, 2, 3, 5, 6

४५. दिइएको विकल्पहरुमध्येबाट सबभन्दा मिल्ने विकल्प 1, 2, 3, 4 छनौट गर्नुहोस।



(1) (2) (3) (4)

४६. Choose the missing term out of the given alternative ;

J2Z, K4X, I7V, ?, HI6R, M22P

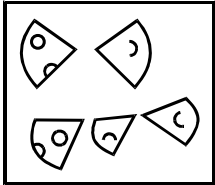
A. I11T

C. L12T

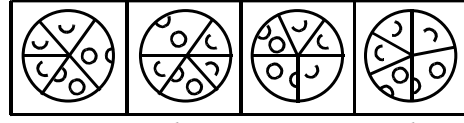
B. L11S

D. L11T

४७. चित्र X मा दिएका चित्रहरूलाई जोडेर दिइएका विकल्पमध्ये कुन पूर्ण चित्र बनाउन सकिन्छ ?



(X)



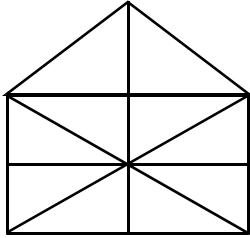
(a)

(b)

(c)

(d)

४८. त्रिभुजको संख्या कति छ ?



A. 17

C. 25

B. 21

D. 13

४९. Hamlet is related to village in the same way as metropolice is related to?

A. Urban

C. District

B. City

D. Place

५०. तलको चित्रमा पानीमा देखिने चित्र के हुन्छ ?



(X)



(a)



(b)



(c)



(d)

सफलताको शुभकामना

उत्तरकुञ्जिका

1	D	2	D	3	D	4	A	5	B
6	D	7	A	8	B	9	A	10	B
11	C	12	D	13	C	14	C	15	A
16	C	17	B	18	D	19	B	20	C
21	A	22	C	23	A	24	C	25	B
26	D	27	D	28	A	29	C	30	A
31	C	32	A	33	B	34	B	35	D
36	B	37	C	38	B	39	B	40	B
41	D	42	A	43	A	44	C	45	B
46	D	47	C	48	B	49	B	50	B

चर्चित लेखक एवं प्रशिक्षकहरुबाट १ महिने विशेष कमाण्डो कक्षा

नयाँ कक्षा आजैबाट शुरू हुदैछन ।

स्वरिदार

बिशेष तयारी कक्षा



मित्र प्रसाद घिमिरे



कुमार तिमिल्सिना

शुल्क
रु. २०००/-



9749344744, 9861534895



"सफलताको एक मात्र मन्त्र"

गुरुमन्त्र एकेडेमी

नयाँ बानेश्वर, काठमाडौं