

लोक सेवा आयोग

अप्राविधिक तर्फका न्याय, प्रशासन, लेखापरीक्षण र संसद सेवा, राजपत्र अनंकित द्वितीय श्रेणी,
खरिदार वा सो सरह पदको खुला प्रतियोगितात्मक परीक्षाको नमुना प्रश्नपत्र

मिति : २०७९।०४।३० गते

KEY [B]

समय : ४५ मिनेट

सेट : २

पूर्णाङ्क : १००

विषय : सामान्य ज्ञान तथा आधारभूत कार्यालय सीप परीक्षण

१. निम्नलिखित जोडा मिलाउनुहोस् ।

महादेश	विशेषता
a. युरोप	2.चिसो हावापानी विहिन
b. अफ्रिका	3.सक्रिय ज्वालामुखी विहिन
c. अष्ट्रेलिया	4.मुलुक विहिन
d. अन्टार्कटिका	5.मरुभूमि विहिन
A. a-1,b-4,c-3,d-2	C. a-4,b-1,c-2,d-3
B. a-3,b-2,c-1,d-4	D. a-4,b-2,c-1,d-3

२. पृथ्वीको बनोटको आधारमा देहायको मध्ये कुन क्रम ठीक छ ?

A. Lithosphere, Pyrosphere, Barysphere	C. Pyrosphere, Lithosphere, Barysphere
B. Barysphere, Lithosphere, Pyrosphere	D. Lithosphere, Barysphere, Pyrosphere

३. तलका मध्ये गलत कुन हो पत्ता लगाउनुहोस ।

A. सुर्खत पनि भित्रि मधेशमा पर्ने जिल्ला हो ।	C. अरुण नदीको अर्को नाम फुङ्चु हो ।
B. विश्वको दास्रो अग्लो हिमाल कन्चनजङ्गा हो	D. ह्यातुड झरना तेहथुम जिल्लामा पर्दछ ।

४. क्षेत्रफको आधारमा नेपालको सबैभन्दा साने संरक्षण क्षेत्र कुन हो ?

A. मनास्लु	C. कृष्णसार
B. अपिनम्मा	D. कन्चनजंघा

५. तल दिएकोमध्ये गलत कुन हो पहिचान गर्नुहोस् ।

१. चीनलाई मात्र छुने प्रदेश कर्णाली प्रदेश हो ।
२. भारतलाई छुने नेपालको जिल्ला २७ ओटा छन् ।
३. सगरमाथा $27^{\circ}59'17''$ उत्तरी अक्षांश र $86^{\circ}55'311''$ पूर्वी देशान्तरमा रहेको छ ।
४. ओखलढुङ्गा जिल्ला र कालिकोट जिल्लाको क्षेत्रफल बराबर रहेको छ ।

- A. १ मात्र गलत छ
B. १ र २ दुबै गलत
C. १, २, ३ गलत
D. ४ मात्र गलत

६. मेडला भञ्ज्याङ डोल्पा जिल्लामा पर्दछ भने काङ्कुङ भञ्ज्याङ कुन जिल्लामा पर्दछ ?

- A. गोरखा
B. हुम्ला
C. डोल्पा
D. मुगु

७. छिन्नमस्ता भगवतिको मन्दिर सप्तरी जिल्लामा पर्दछ भने गढीमाइको मन्दिर कुन जिल्लामा पर्दछ ?

- A. सुनसरी
B. बारा
C. पर्सा
D. संखुवासभा

८. कुनै पनि धर्म सिद्धान्त यसकारणले मात्र मान्य हुँदैन कि त्यसलाई इश्वरले सृष्टि गरेका हुन् बरु हाम्रो बुद्धि र तर्कले ठीक मानेमा मात्र त्यस्तो धर्म वा सिद्धान्त ठीक मान्न सकिन्छ । यो भनाइ कसको हो ?

- A. पिटर अलेवार्ड
B. रुसो
C. मन्टेक्यु
D. सिमोन

९. चौरासे र साटाखानी औद्योगिक क्षेत्र कुन जिल्लामा पर्दछ ?

- A. रुपन्देही
B. कञ्चनपुर
C. सुर्खेत
D. दार्चुला

१०. निम्न कथनहरूका बारेमा विचार गर्नुहोस् र कोडबाट सही उत्तर छान्नुहोस् ।

1. इस्ट इन्डिया कम्पनिको पहिलो गोर्खा पल्टन नुसिरी रेजिमेन्ट हो ।
2. दास्रो संविधानसभा निर्वाचनमा समानुपातिक तर्फ ३० ओटा दलले मात्र सिट जित्न सफल भए ।
3. बृहत शान्ति सम्झौता पश्चात् नेपाल अधिराज्यलाई नेपाल राज्य भनिन्थ्यो ।

- A. सबै ठीक
B. १ र २ मात्र ठीक
C. २ र ३ मात्र ठीक
D. सबै बठीक

११. कुन किराती राजाको पालामा नेपालको पहाडी भागमा किरात रुपधारी शिव र अर्जुनविच युद्ध भएको थियो ?

- A. साँतौ किराती राजा जितेदास्ती
B. छौँटौ किराँती राजा हुमति
C. यलम्बर
D. भुवन सिंह

१२. एकतन्त्रीय राणा शासन कालमा कुन कुन प्रधानमन्त्रीलाई बलपूर्वक पदमुक्त गरिएको थियो ?

- A. देवशमसेर र पद्मशमसेर
B. जुद्धशमसेर र देवशमसेर
C. चन्द्रशमसेर र पद्मशमसेर
D. जुद्ध शमसेर र चन्द्र शमसेर

१३. निम्न भनाइहरु विचार गरी उपयुक्त विकल्प छान्नुहोस् ।

1. सुगौली सन्धीमा ९ ओटा धारा छन् ।
2. १९८० मा भएको मेन्टे सन्धीले सर्वप्रथम नेपाललाई सार्वभौम राष्ट्रको मान्यता दिएको थियो ।
3. नेपालका प्रथम लाहुरे भनि वीर बलभद्र कुँवरलाई चिनिन्छ ।

- A. १ र २ मा ठिक
B. १ मा ठिक
C. २ र ३ मा मात्र ठिक
D. सबै ठिक

१४. नेपालको राजवंशी जातिमा प्रचलित लोग्ने वितेको विधुवा नारीले नाता नपर्ने परपुरुषलाई लोग्ने जस्तै बनाएर राख्ने प्रथालाई के भनिन्छ ?

- A. डंगुवा प्रथा
B. झुमा प्रथा
C. भारा प्रथा
D. बाघो प्रथा

१५. पशुपतिमा शिवलाई कसको मुकुट पहिर्याउने चलन छ ?

- A. विष्णुको
B. शिवको
C. बुद्धको
D. रामको

१६. श्रीमति हुँदाहुँदै लोग्नेले अर्को श्रीमति ल्याएमा लोग्नेले घर छाड्नुपर्ने चलन कुन जातिमा रहेको छ ?

- A. बाहगाउँले
B. ल्होमी
C. मनागें
D. लार्के

१७. सुब्बा कृष्णलाल अधिकारी द्वारा लिखित मकैको खेति नामक पुस्तक कहिले प्रकाशित भएको थियो ?

- A. वि.सं. २०७७
B. वि.सं. १९७८
C. वि.सं. १९७९
D. वि.सं. १९८०

१८. नेपाली भाषा र साहित्यको क्षेत्रमा युवालाई आर्कषित गर्ने उद्देश्यले युवा वर्ष मोति पुरस्कारको स्थापना कहिले गरिएको हो ?

- A. वि.सं. २०४०
B. वि.सं. २०४२
C. वि.सं. २०४४
D. वि.सं. २०४६

१९. थामी सङ्ग्रहालय कहाँ निर्माण गर्न थालिएको छ ?

- A. दौलखा
B. सिन्धुली
C. काभ्रे
D. भक्तपुर

२०. नेपाल सरकारले कहिले कमैया प्रथाको अन्त्य भएको घोषणा कहिले गरेको थियो?

- A. वि.सं. २०५७ साउन १
B. वि.सं. २०५७ साउन २
C. वि.सं. २०५७ भदौ १
D. वि.सं. २०५७ भदौ २

२१. विश्व वातावरण दिवस कहिले मनाइन्छ ?

- A. जुन ५
B. सेप्टेम्बर २७
C. अप्रिल २२
D. फेब्रुवरी १४

२२. आर्थिक सर्वेक्षण २०७७/७८ अनुसार हाल देशका कुल ग्राहस्थ उत्पादनमा कृषि क्षेत्रको योगदान कति रहेको अनुमान छ ?

- A. २५.८ प्रतिशत
B. २३.८ प्रतिशत
C. २२.८ प्रतिशत
D. ५.८ प्रतिशत

२३. ओद्योगिक व्यावसायिक ऐन, २०७६ अनुसार कतिओटा जिल्लालाई अति अविकसित क्षेत्र भनि सुचिकृत गरिएको छ ?

- A. २३ जिल्ला
B. २४ जिल्ला
C. २५ जिल्ला
D. २० जिल्ला

२४. बायोभिलेज नमुना कार्यक्रम संचालन गरिएको नेपालको पहिलो जिल्ला कुन हो ?

- A. रामेछाप
B. तनहुँ
C. बर्दिया
D. कैलाली

२५. वि.सं २०२२ को शीतकालीन ओलम्पिकको आयोजक राष्ट्र कुन हो ?

- A. जापान
B. रसिया
C. चीन
D. अमेरिका

२६. दिगो विकासको १२ औँ लक्ष्य कुन हो ?

- A. देशभित्रै वा देशहरु बीच रहेको असमानतालाई न्यून गर्ने
B. सहरहरुलाई समावेशी, सुरक्षित, सबल र दिगो बनाउने
C. दिगो उपभोग तथा उत्पादनको ढाचा सुनिश्चित गर्ने
D. जलवायु परिवर्तन तथा यसका प्रभावहरु विरुद्ध लड्न तत्काल कार्वही थाल्ने

२७. ECG नामक यन्त्र कुन अंगको परिक्षणको लागि प्रयोग गरिन्छ ?

- A. कलेजो
B. मुटु
C. फोक्सो
D. मृगौला

२८. अन्तराष्ट्रिय नागरिक उड्डयन संगठन (ICAO) को प्रधान कार्यलय कहाँ रहेको छ ?

- A. जेनेभा (स्वीट्जरल्याण्ड)
B. मन्ट्रियल (क्यानडा)
C. वर्न (स्वीट्जरल्याण्ड)
D. बेलायत (लण्डन)

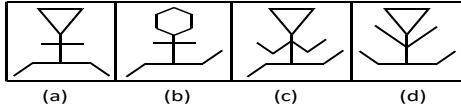
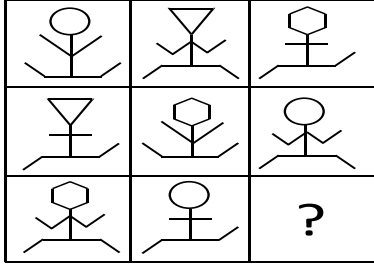
२९. पहिलोपटक दक्षिणी ध्रुवमा हिंडेर नेपालीहरु कहिले पुगेका थिए ?

- A. २०२२ जनावरी २
B. २०२२ जनावरी ४
C. २०२२ जनावरी ६
D. २०२२ जनावरी ८

३०. रातो ग्रह उपनामले चिनिने गह्र कुन हो ?

- A. बुध
B. शुक्र
C. वृस्पति
D. मंगल

३१. तलको मेट्रिक्स पुरा गर्नुहोस् ।



३२. दुई अंकको एउटा संख्यामा अंकहरुको योग ११ छ । यदि त्यो संख्यामा २७ जोडदा अंकहरुको स्थान बदलिन्छ भने उक्त संख्या कति होला ?


- A. ४७
B. ६५
C. ८३
D. ९२

३३. $0.04X ? = 0.000016$

- (A) 0.0004
(B) 0.04
(C) 4
(D) None of these

३४. तलको सही सम्बन्ध देखाउने भेनचित्र छान्नुहोस् ।

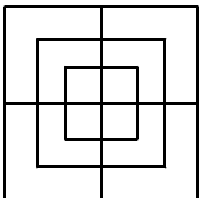
स्तनधारी, गाइ, कुखुरा



३५. फरक तरिकाले मिल्ने जोडा पत्तालगाउनुहोस् ।

- (A) Ice cube : Cold
(B) Iron : Hard
(C) Marble : Smooth
(D) Purse : Money

36. Find the number of squares in the following figure



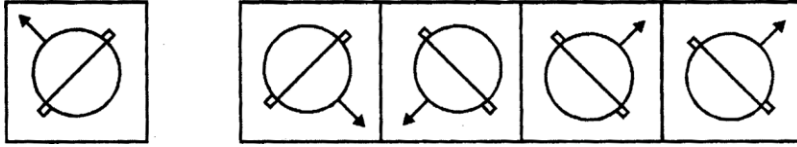
- A. 8
B. 12

- C. 15
D. 18

३७. एउटा मान्छेले कुनै सामान त्यसको वास्तविक मूल्य भन्दा १० प्रतिशत कममा किन्यो र वास्तविक मूल्य भन्दा १० प्रतिशत बढीमा बेच्यो भने उसको नाफा वा नोक्सान प्रतिशत कति होला ?

- (A) no profit, no loss (C) less than 20% profit
(B) 20% profit (D) more than 20% profit

38. Choose the correct mirror image of the X figure.



x a b c d

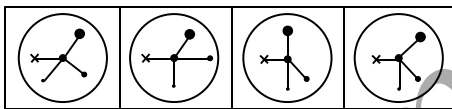
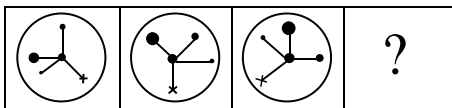
३९. विजय १० कि.मि. उत्तरतर्फ हिँड्छ। त्यहाँबाट उ ६ कि.मि. दक्षिणतर्फ हिँड्छ। त्यसपछि उत्तर पूर्वतिर ३ कि.मि. हिँड्छ। अब उ पहिलेको बिन्दुभन्दा कति पर र कुन दिशामा छ ?

- (A) 5 kilometers west (C) 7 kilometers East
(B) 5 kilometers North-East (D) 7 kilometers West

४०. A, B र C ले कुनै एक काम क्रमशः २०, ३० र ६० दिनमा सक्छन्। यदि हरेक तेस्रो दिनमा B र C ले साथ दिए भने A ले उक्त काम कति दिनमा सक्ला ?

- (A) 12 days (C) 16 days
(B) 15 days (D) 18 days

41. Which figure will continue the following series ?



42. Choose the missing term out of the following alternatives.

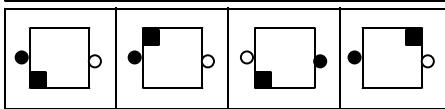
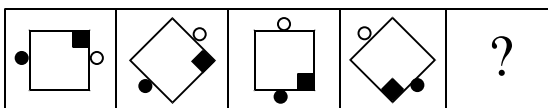
A, D, H, M, ?, Z

- (A) T (C) N
(B) G (D) S

43. Income is related to Profit in the same way as Expenditure is related to

- A. Balance (C) Sale
B. Loss (D) Surplus

44. Which figure would replace the question mark in figure (4).



45. Find the missing character.

7	4	5
8	7	6
3	3	?
29	19	31

- A. 3
B. 4
C. 5
D. 6

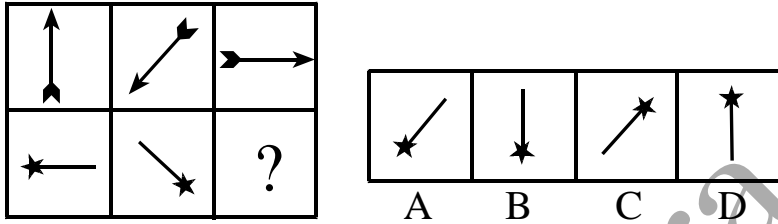
४६. हिजोको अस्तिसोमबार थियो भने भोलीको पर्सि कुनबार पर्छ ?

- A. आइतबार
B. सोमबार
C. मंगलबार
D. शनिबार

४७. कुनै एक संख्या आफैंको १६ प्रतिशत भन्दा ४२ ले बढी छ भने उक्त संख्या कति होला ?

- A. ५०
B. ५२
C. ५८
D. ६०

48. Complete the following matrix ?



49. Find the missing term ?

1, 9, 25, 49, ?, 121

- A. 64
B. 81
C. 91
D. 10

50. Choose the best alternatives as 11: 1210.

- A. 6:216
B. 7:1029
C. 8:448
D. 9:729

1.C	2.A	3.B	4.C	5.D
6.C	7.B	8.A	9.C	10.B
11.B	12.A	13.D	14.A	15.C
16.B	17.A	18.B	19.A	20.B
21.A	22.A	23.A	24.B	25.C
26.C	27.B	28.B	29.A	30.D

31	D	32	A	33	A	34	D	35	D	36	C	37	C	38	C	39	B	40	B
41	D	42	D	43	B	44	C	45	C	46	A	47	A	48	D	49	B	50	C