



“सफलताको एक मात्र मन्त्र”  
गुरुमन्त्र एकेडेमी

सफलताको एक मात्र मन्त्र, गुरुमन्त्र एकेडेमी

# गुरुमन्त्र एकेडेमी

नयाँ बानेश्वर, काठमाडौं

Phone: 9749344744, 9861534895

लोक सेवा । बैकिङ्ग । शिक्षक सेवा । सुरक्षा

## लोक सेवा आयोग

अप्राविधिक तर्फका न्याय, प्रशासन, लेखापरीक्षण र संसद सेवा, राजपत्र अनंकित द्वितीय श्रेणी, खरिदार वा सो सरह पदको खुला प्रतियोगितात्मक परीक्षाको नमुना प्रश्नपत्र

मिति : २०७९।०५।०३ गते

KEY [B]

समय : ४५ मिनेट

सेट : ४

पूर्णाङ्क : १००

विषय : सामान्य ज्ञान तथा आधारभूत कार्यालय सीप परीक्षण

१. नदीहरुको उत्पत्ति स्थलका आधारमा कुन सही छैन ?

- A. लिखु खोला: रोल्वालिङ हिमाल
- B. मुगु कर्णाली: लद्दाख हिमाल
- C. मावा खोला: शिवलिक पर्वत
- D. झिम्रुख खोला: गौमुखी

२. जाखिरा ताल कपिलवस्तु जिल्लामा पर्दछ भने सुर्मा सरोवर कुन जिल्लामा पर्दछ ?

- A. अछाम
- B. डडेल्धुरा
- C. बाजुरा
- D. बझाङ

३. नेपालको विभिन्न गुफाहरुविच जोडा मिलाउनुहोस् ।

- |              |            |
|--------------|------------|
| a. विशिष्ट   | 1. सुर्खेत |
| b. पाण्डु    | 2. तनहुँ   |
| c. रेड क्लिफ | 3. जुम्ला  |
| d. विरेन्द्र | 4. मुस्ताङ |

- A. a-3, b-2, c-1, d-4
- B. a-2, b-3, c-4, d-1
- C. a-2, b-4, c-3, d-1
- D. a-4, b-2, c-3, d-1

४. मृतसागर समुन्द्र सतहबाट कति मिटर तल रहेको छ ?

- A. ४९२ मिटर
- B. ३९२ मिटर
- C. ५९२ मिटर
- D. २९२ मिटर

५. विश्वको विभिन्न भुभाग र खोजकर्ता सम्बन्धमा कुनकुन सही छन् ?

भु-भाग	खोजकर्ता	खोज मिति
१) पश्चिमी द्विप	–क्रिष्टोफर कोलम्बस, इटाली	–सन् १९४२
२) न्यू फाउड ल्याण्ड	–जो केवेट –भेनेसियन, इटाली	–सन् १९९७
३) ब्राजिल	–पेट्रो अल्मारेज, पोर्चुगल	–सन् १५००
४) अष्ट्रेलिया	–क्याप्टेन जेम्स कुक, बेलायत	–सन् १७६८
५) दक्षिण ध्रुव	–उडमण्ड सेन, नर्वे	–सन् १९११

- A. १, २, ३ मात्र सही
- B. २, ३, ४ मात्र सही
- C. ४, १, ३ मात्र सही
- D. सबै सही

६. द्रव्य शाहले गोरखा राज्यको स्थापना कहिले गरेका थिए ?

- A. वि.सं. १६१६ भदौ २५
- B. वि.सं. १६१६ जेठ २५
- C. वि.सं. १६१६ साउन २५
- D. वि.सं. १६१६ असार २५

७. देहायका भनाई अध्ययन गरी असत्य भनाई रोज्नुहोस् ।

- १) वि.सं. २०१६ सालमा गठित सरकारमा प्रतिपक्षी दलको नेता भरतशमसेर थिए ।
- २) छिन्ताड (धनकुटा) काण्ड प्रधानमन्त्री लोकेन्द्र बहादुर चन्दको पालामा भएको थियो ।
- ३) छिन्ताड (धनकुटा) काण्ड वि.सं. २०३६ कार्तिक २७ गते भएको थियो ।
- ४) जनमत संग्रहको निर्वाचन वि.सं. २०३७ वैशाख २० गते भएको थियो ।

- A. १ र २ मात्र
- B. १, २ र ३ मात्र
- C. २ मात्र
- D. ३ र ४ मात्र

८. नेपालको राजदरबार हनुमान ढोकाबाट नारायणहिटी कसको पालामा सारिएको थियो ?

- A. श्री ५ पृथ्वीवीरविक्रम शाहदेव
- B. श्री गिर्वाणयुद्ध विक्रम शाह
- C. रण बहादुर शाह
- D. महेन्द्र विर विक्रम शाह

९. पुर्नजागरणका प्रथम व्यक्ति मानिने दाँतेको जन्म कहिले र कहाँ भएको थियो ?

- A. सन् १२६५, इटाली
- B. सन् १२६६, इटाली
- C. सन् १२६६, फ्रान्स
- D. सन् १२६६, जर्मनी

१०. तीन सय वर्षसम्म स्वतन्त्रतको प्रतिक्षा स्वीकार्य छ तर असत्य उपायबाट त्यसको प्राप्ति चाँहिदैन । भन्ने विचारक को हुन् ?

- A. बलगंगाधर तिलक
- B. स्वामी दयानन्द सरस्वती
- C. माहात्मा गान्धी
- D. जवाहरलाल नेहरु

११. नेपालको उत्तरी क्षेत्रमा बसोबास गर्ने शेर्पा, लामा, लोवा आदि जातिका मानिसहरुले आफ्नो माइली छारीलाई संस्कारको रुपमा बौद्ध गुम्बाहरुमा चढाउने प्रथालाई के भनिन्छ ?

- A. देउकी प्रथा
- B. चौघा प्रथा
- C. भारा प्रथा
- D. झुमा प्रथा

१२. बौद्ध तीर्थस्थलहरूमध्ये स्वर्णशिला थाइल्याण्ड, ताम्रशिला श्रीलंका, विक्रमशिला भारतमा पर्छ भने तक्षशिला कहाँ पर्छ ?

- A. पाकिस्तान
- B. बंगलादेश
- C. नेपाल
- D. भुटान

१३. विहानको खाजालाई कलुवा, दिउसोको खाजालाई मिजनी र साँझको खानालाई बरी भन्ने जाति कुन हो ?

- A. तामाङ
- B. थारु
- C. मगर
- D. लिम्बु

१४. नेपालको शिक्षा पद्धतिमा नेपाली विषयलाई अनिवार्य गराउने पहिलो व्यक्ति को हुन् ?

- A. भानुभक्त आचार्य
- B. मोतीराम भट्ट
- C. लक्ष्मी प्रसाद देवकोटा
- D. सुवानन्द दास

१५. नेपाली साहित्य गुठीद्वारा उत्कृष्ट पाण्डुलिपि पुरस्कारको स्थापना कहिले गरिएको हो ?

- A. वि.सं. २०४९
- B. वि.सं. २०५०
- C. वि.सं. २०४८
- D. वि.सं. २०४७

१६. राजघरानाको दाहसंस्कारको बेला दिपकराग बजाउने चलन कसले चलाएका हुन् ?

- A. सिद्धिनरसिंह मल्ल
- B. प्रताप मल्ल
- C. जयस्थिति मल्ल
- D. यक्ष मल्ल

१७. नेपालमा कुन कुन योजना अवधिलाई कृषि दशकका रूपमा मनाइन्छ ?

- A. दशौं र एघारौं योजना
- B. नवौं र दशौं
- C. एघारौं र बाह्रौं
- D. पाचौं र छैटौं

१८. दशौं औद्योगिक गणना २०७०, अनुसार सबैभन्दा बढी उद्योग प्रतिष्ठानहरु रहेको जिल्ला कुन हो ?

- A. विराटनगर
- B. रुपन्देही
- C. काठमाडौं
- D. कञ्चनपुर

१९. बेरोजगारी तथा गरिबी घटाई दिगो शान्ति स्थापना गरी जनताको जीवनमा प्रत्यक्ष परिवर्तनको अनुभूति दिलाउने प्रमुख उद्देश्य कुन योजना थियो ?

- A. तीनवर्षे अन्तरिम योजना
- B. प्रथम पञ्चवर्षिय योजना
- C. दोस्रो त्रिवर्षिय योजना
- D. तेस्रो आवधिक योजना

२०. उपमेयर कप राष्ट्रिय महिला लिग छनोट प्रतियोगिता २०७८ कहिले सम्पन्न भएको थियो ?

- A. वि.सं.२०७८ कात्तिक २५
- B. वि.सं.२०७८ कात्तिक २६
- C. वि.सं.२०७८ कात्तिक २७
- D. वि.सं.२०७८ कात्तिक २८

२१. विश्वकप फुटबल प्रतियोगितामा सर्वाधिक कम समय (११ सेकण्ड) मा गोल गर्ने खेलाडी हकन सुकरले कुन देश विरुद्ध गोल गरेका हुन् ?

- A. चेकोस्लोभाकिया
- B. दक्षिण कोरिया
- C. मेक्सीको
- D. हंगेरि

२२. नेपालको कुन एक मन्दिरमा माछाको पुजा गर्ने प्रचलन ?

- A. विन्दावासिनी मन्दिर
- B. शंकराचार्य मन्दिर
- C. छाब्दिबाराहि मन्दिर
- D. मुक्तिनाथ मन्दिर

२३. Celebrating 25 year of Action for Biodiversity भन्ने नारा कुन बर्षको अन्तर्राष्ट्रिय जैविक विविधता दिवसको हो ?

- A. २०२१
- B. २०२०
- C. २०२२
- D. २०१९

२४. हेमन्त ऋतु कुन कुन महिना पर्दछन् ?

- A. असोज –कात्तिक
- B. मंसिर –पुष
- C. माघ –फागुन
- D. चैत –बैशाख

२५. दिगो विकास शब्दको प्रयोग सर्वप्रथम कहिले गरिएको थियो ?

- A. सन् १९८३
- B. सन् १९९७
- C. सन् १९८७
- D. सन् १९८५

२६. विश्वकै पहिलो पटक स्पेन एलिभेट (लिफ्ट) को परीक्षण कुन देशले गरेको हो ?

- A. जापान
- B. चीन
- C. अमेरिका
- D. रुस

२७. संयुक्त राष्ट्रसंघ र अन्य अन्तर्राष्ट्रिय संगठनहरूका लागि नेपालको स्थायी नियोग कही रहेको छ ?

- A. न्यूयोर्क (अमेरिका)
- B. जेनेभा (स्वीजरल्यान्ड)
- C. टोकियो (जापान)
- D. ब्राजिल

२८. नेपाल र भारत बीच सम्पन्न महाकाली सन्धि कहिले पारित भएको थियो ?

- A. वि.सं. २०५३ असोज ४
- B. वि.सं. २०५३ असोज ६
- C. वि.सं. २०५३ असोज ७
- D. वि.सं. २०५३ असोज ८

२९. राष्ट्रिय टोलीका फरवार्ड तथा मनाङ मस्र्याङदी क्लबका कप्तान अन्जन विष्टले सर्वोत्कृष्ट राष्ट्रिय फुटबल खेलाडी सम्मान २०७८ प्राप्त गरेका छन् सो सम्मान कुन क्लबले गरेको हो ?

- A. मनाङ मस्र्याङदी क्लब
- B. सहारा क्लब
- C. हिमालयन शेर्पा क्लब
- D. मछिन्द्र फुटबल क्लब

३०. इण्डोनेसियाको संसदले राजधानी सार्ने पारित गरेको हो ?

- A. २०२२ जनवरी १८
- B. २०२२ जनवरी १७
- C. २०२२ जनवरी १५
- D. २०२२ जनवरी १४

३१. 66 : 144 :: 77 : ?

- A. 196
- B. 155
- C. 154
- D. 184

३२. संगीत बहिरालाई जस्तै साहित्य कसलाई ?

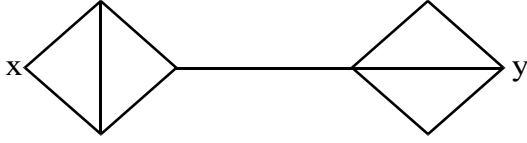
- A) अन्धो
- B) **निरक्षर**
- C) साक्षर
- D) कानो

३३. सिकर्मीको करौंती, दाउरेको बज्वरो, किसानको हलो भएजस्तै मूर्तिकारको के हुन्छ ?

- A) कोदालो
- B) **छिन्**
- C) बेल्या

D) खुत्रुके

३४. तल दिइएको चित्रको सन्दर्भमा एकपटकमा एउटै बाटो पुनः प्रयोग नगरिकन X र Y सम्म पुग्नको लागि कति ओटा बाटोहरु सम्भव हुन्छ ?



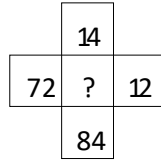
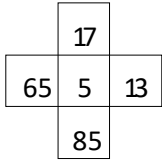
A) 10

B) 16

C) 12

D) 24

३५. कुन संख्याले प्रश्न चिन्ह लाई प्रतिस्थापन गर्दछ ?



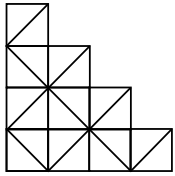
A) ५

B) ६

C) ७

D) ८

३६. दिइएको चित्रमा कति वटा वर्ग छन् ?



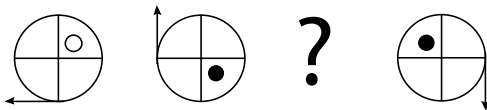
A. 11

B. 13

C. 15

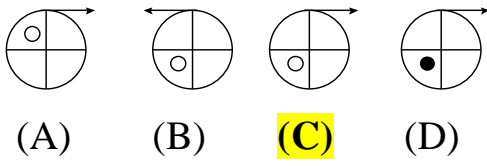
D. 14

३७. कुन चित्रले प्रश्न चिन्हलाई प्रतिस्थापन गर्दछ ?



Choose from:





(A) (B) **(C)** (D)

३८. राम, श्याम र हरिले कुनै काम क्रमशः 20, 30 र 60 दिनमा गर्न सक्छन् । यदि रामलाई सो काम गर्न श्याम र हरिले हरेक दिन विराएर सघाउँछन् भने उसले सो काम कति दिनमा गर्न सक्छ ?

- A. A)12 days  
**B. 15 days**  
 C. 16 days  
 D. 18 days

३९. दिइएको मेट्रिक्सको खाली ठाउँमा के हुन्छ ?

२	४	५	१५
३	५	१०	२४
५	२	४	?

- A. 25**  
 B. 34  
 C. 32  
 D. 22

४०. तल दिइएको क्रम / श्रेणीमा अगाडि बाट पचासौं क्रममा कुन आउँछ ?

a1Ab2Bc3Cd4De5E...

- A. p  
**B. 17**  
 C. P  
 D. o

४१. दिइएको समूहमा नमिल्दो कुन हो ?

- A. परेवा  
 B. काग  
**C. चमेरा**  
 D. जुरेली

४२. दिइएको समूहमा नमिल्दो कुन हो ?

- A. १६  
**B. ६४**  
 C. ६२५  
 D. ८१

४३. एकजना व्यापारीले 1 रुपैयाको 6 ओटाको दरमा चकलेट किनेछ। यदि उसले 20 नाफा कमाउने हो भने एक रुपैयामा कतिवटाको दरले चकलेट बेच्युपर्ला ?

- A. 3
- B. 4
- C. 5
- D. 6

४४. एक जनाव्यक्तिले 5km/hr को सट्टा 10km/hr हिडेर 25 km को बढी दुरी पार गरेछ भने उसले जम्मा कति दुरी पार गरेछ ?

- A. ४० कि.मी.
- B. १२५ कि.मी.
- C. ५० कि.मी.
- D. २५ कि.मी.

४५. कुनै मानिस घरबाट सीधा ८ किलोमिटर पूर्वतर्फ अघि बढछ, त्यसपछि बाँया फर्केर सीधा ६ किलोमिटर अघि बढछ भने ऊ घरबाट कुन दिशामा कति टढा छ ?

- A. १० किलोमिटर उत्तर पूर्व
- B. १४ किलोमिटर उत्तर पूर्व
- C. २ किलोमिटर उत्तर पूर्व
- D. ४.१५ किलोमिटर उत्तर तर्फ

४६. यदिकुनै कोड भाषामा COUNSEL को कोड BITIRAK भए त्यस कोड भाषामा GUIDANCE लाई कसरी लेखिन्छ ?

- A. FPHZKAB
- B. COHYZKBB
- C. FOHYZJBB
- D. FHPZKAB

४७. यदि आज सोमबार हो भने १०० दिनपछि के बार आउँछ ?

- A. बुधबार
- B. विहिवार
- C. मंगलबार
- D. शुक्रबार

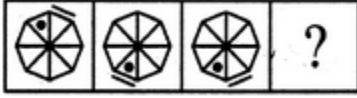
४८. अर्थपूर्ण ढंगले क्रम मिलाउनु होस् ।

१. अन्तर्वार्ता    २. आवेदन    ३. नियुक्तिपत्र    ४. नतिजा प्रकाशन    ५. लिखित परीक्षा

- A. २, ५, ४, १, ३  
**B. २, ५, १, ४, ३**  
 C. २, ५, १, ३, ४  
 D. २, ३, १, ४, ३

४९. प्रश्न चिन्ह रहेको ठाउँमा उपयुक्त चित्र विकल्पहरूबाट छान्नुहोस् ?

Problem Figures:



(A) (B) (C) (D)


Answer Figures:



(1) (2) (3) (4) (5)

- A. 1  
 B. 2  
 C. 3  
**D. 4**

५०. दिइएका विकल्पहरूबाट उपयुक्त विकल्प छनौट गरी Figure Matrix लाई पूरा गर्नुहोस् ।



(1) (2) (3) (4)

- A. 1  
 B. 2  
 C. 3  
**D. 4**

सफलताको शुभकामना