

लोक सेवा आयोग

अप्राविधिक तर्फका न्याय, प्रशासन, लेखापरीक्षण र संसद सेवा, राजपत्र अनंकित द्वितीय श्रेणी, खरिदार वा सो सरह पदको खुला प्रतियोगितात्मक परीक्षाको नमुना प्रश्नपत्र

मिति : २०७९।०५।०५ गते

KEY [B]

समय : ४५ मिनेट

सेट : ५

पूर्णाङ्क : १००

विषय : सामान्य ज्ञान तथा आधारभूत कार्यालय सीप परीक्षण

१. समूह क र ख जोडा मिलाई सही उत्तर छनोट गर्नुहोस् । (प्रधानमन्त्री कृषि आधुनिकीकरण कार्यक्रम)

समूह क

समूह ख

- | | |
|--------------|----------|
| a) दाड | 1.तरकारी |
| b) कास्की | 2.मकै |
| c) कैलाली | 3.गहुँ |
| d) डडेल्धुरा | 4.आलु |

A. a-2,b-1, c-3, d-4

C. c-2, d-4,a-3, b-1

B. a-2, b-3,c-1,d-4

D. c-1,d-4,a-3, b-2

२. पहिचान सम्मान पुरस्कार २०७८ कसलाई प्रदान गरिएको हो ?

A. डा. सन्दुक रुइत

C. शान्ती ढटाल

B. खगेन्द्र संग्रौला

D. चन्द्रप्रकाश वानिया

३. भित्री मधेशमा पर्ने जिल्लाको पूर्वदेखि पश्चिमसम्मको क्रम मिलाउनुहोस् ।

A. सिन्धुली,चितुवन,मकवानपुर,नवलपुर,

C. सिन्धुली, मकवानपुर, नवलपुर,चितुवन

B. सिन्धुली,मकवानपुर, चितुवन, नवलपुर

D. सिन्धुली,चितुवन,नवलपुर,मकवानपुर

४. नेपालमा सात प्रदेशमा क्रमशः ८, ९, १०, ११, १२, १३ र १४ जिल्ला पर्दछन् भने नम्बर अनुसार मिलाउँदा यसको क्रम दिएको मध्य कुन हुन्छ ।

A. २,५,४,६,७,३,१

C. २,७,६,४,५,३,१

B. २,६,७,५,४,१

D. ७,२,६,४,१,५,३

५. तलको मध्ये विषाणुको कारणले लाग्ने रोग कुन होइन् ।

A. पोलियो

C. रेविज

B. दादुरा

D. लहरेखाकी

६. निम्न भनाइहरूको बारेमा विचार गर्नुहोस् ।

1. नेपालको सर्वोच्च स्थानमा उत्पत्ति भएको हिमनदी खुम्बु हो ।

2. बबई नदीलाई भारतमा पुगेपछि घाँघरा भनिन्छ ।

3. माथि दिएका भनाइहरूमध्ये कुन सही हो हुन् ।

- A. 1 मात्र C. 2 मात्र
B. दुबै सही D. दुबै गलत

७. छोटौँ कृषि गणना अनुसार उब्जाउभूमि बढी र कम भएका जिल्ला कुन कुन हुन् ।

- A. झापा र मनाङ C. मोरङ र मुस्ताङ
B. मोरङ र मुस्ताङ D. झापा र मुस्ताङ

८. तल EU का Inner Six अर्न्तगत पर्ने राष्ट्र कुन होइन ?

- A. बेल्जियम C. इटाली
B. नेदरल्याण्ड D. पोर्चुगल

९. हिमाली जिल्ला मुगुमा पहिलो पटक सुरक्षित खानेपानी वस्ती घोषणा कहिले गरिएको हो ?

- A. वि.सं. २०७८ पुष १४ C. वि.सं. २०७८ पुष १६
B. वि.सं. २०७८ पुष १५ D. वि.सं. २०७८ पुष १७

१०. तलको मध्ये चीनको सहयोगको क्षेत्र कुन होइन ?

- A. नारायणगढ-मुग्लिन सडक C. रिडरोड
B. राष्ट्रिय सभा गृह D. वि.पी. राजमार्ग

११. Miss Universe 2021को उपाधि जित्ने महिला को हुन् ?

- A. अनुस्का शर्मा C. शृङ्खला खतिवडा
B. क्यारोलिना बेलवास्का D. हरनाज सन्धु

१२. पुतलीको घर नामक कृतिका सर्जक को हुन् ?

- A. पुष्पा बस्नेत C. अमर न्यौपाने
B. राजन मुकारुड D. खगेन्द्र संग्रौला

१३. जोडा मिलान गरी कोडबाट सही उत्तर छान्नुहोस् ।

- | समूह-क | समूह-ख |
|-----------------------|-----------------------|
| a) ओलाङचुङ्गोला | 1.संखुवासभा |
| b) नाम्जा | 2.मुगु |
| c) यारी | 3.ताप्लेजुङ |
| d) किमाथाङ्का | 4.हुम्ला |
| A. a-3, b-2, c-4, d-1 | C. a-2, b-3, c-4, d-1 |
| B. a-3, b-4, c-1, d-2 | D. a-3, b-4, c-2, d-1 |

१४. “बसाइ सरी जानेलाइ बाईबाई आउनेलाइ दुहुनो गाई” नामक अभियान सञ्चालन गर्ने स्थानीय तह कुन हो ?

- A. मंगला गाँउपालिका, म्याग्दी C. छथर जोरपाटी गाँउपालिका, धनकुटा
B. हेलम्बु गाँउपालिका, काँस्की D. सिस्ने गाँउपालिका, रुकुम पूर्व

१५. निम्न भनाईको बारेमा विचार गर्नुहोस् ।

1. इन्द्र जात्रामा लिङ्गो गाड्ने चलन गुणकामदेवले चलाएका हुन् ।
 2. नेपालमा राणा शासनको आगमन हुनुपूर्व ६ जना प्रधानमन्त्री भएका थिए ।
- माथि दिएका भनाइहरूमध्ये कुन भनाइ ठीक हो/ हुन् ।

- | | |
|------------|---------------------|
| A. 1 मात्र | C. 1 र 2 दुबै ठीक |
| B. 2 मात्र | D. 1 र 2 दुबै बेठिक |

१६. अण्डामा पाइने भिटामिन कुनकुन हुन् ?

- | | |
|-------------|----------|
| A. A, B & D | C. A & B |
| B. B & C | D. A & D |

१७. तलका मध्ये कुन चाँहि जोडा गलत छ ?

- | | |
|----------------|--------------------|
| A. दराइ –तनहूँ | C. जिरेल –दोलखा |
| B. राजी – दाङ | D. किसान –मकवानपुर |

१८. नेपालमा प्रधानमन्त्री के.पी शर्मा ओलीले भिडियो कन्फरेन्समार्फत कोरोना विरुद्धको खोप अभियानको उद्घाटन कहिले गरेको हुन् ?

- | | |
|-----------------------|-----------------------|
| A. वि.सं. २०७७ माघ १२ | C. वि.सं. २०७७ माघ १४ |
| B. वि.सं. २०७७ माघ १३ | D. वि.सं. २०७७ माघ १५ |

१९. तलका मध्ये कुन भनाइ सहि छ ?

1. Father of Blood Circulation भनेर लुई पास्चरलाई चिनिन्छ ।
 2. हरियोपातमा क्लोरोफिल तत्व हुन्छ ।
 3. वासिङ मेसिनको आविस्कारका चार्ल्स स्टोन हुन् ।
 4. नेपालमा २०७० साल देखि राष्ट्रिय विज्ञान दिवस मनाउन थालिएको हो ।
- | | |
|-----------------------|--------------------|
| A. 1, 3 र 4 मात्र ठीक | C. 2 र 4 मात्र ठीक |
| B. 1 र 3 मात्र ठीक | D. सबै ठीक |

२०. प्रधानमन्त्री कप टी-२० राष्ट्रिय क्रिकेट २०७८ को उपाधि कसले हात पारेका थिए ?

- | | |
|----------------|------------------|
| A. ए.पी.एफ | C. नेपाल पुलिस |
| B. नेपाल आर्मी | D. बागमति प्रदेश |

२१. गर्जनेवाला चालिसा दक्षिणी गोलार्द्धको कति डिग्री अक्षांशमा पर्दछ ?

- | | |
|----------------------|-----------------|
| A. ५ डिग्री तलमार्थी | C. ३०-३५ डिग्री |
| B. १५-२५ डिग्री | D. ४०-६० डिग्री |

२२. चारबुर्जा दरबार कसले बनाएको हुन् ?

- | | |
|-----------------|-------------|
| A. चन्द्र शमशेर | C. देवशमशेर |
| B. बीरशमशेर | D. भीमशमशेर |

२३. मानव विकास प्रतिवेदन २०२१ अनुसार नेपाल कति औँ स्थानमा अवस्थित छ ?

- A. १४२ औँ
B. १४४ औँ
C. १४६ औँ
D. १४७ औँ

२४. आफ्नो नामको अगाडि कविन्द्र लेख्ने राजा को हुन् ?

- A. यक्ष मल्ल
B. प्रताप मल्ल
C. जीतामित्र मल्ल
D. महेन्द्र मल्ल

२५. जोडा बारे विचार गर्नुहोस् ।

1. नुनिलो महासागर –प्रशान्त महासागर
2. उत्तरी ध्रुवदेखि दक्षिणी ध्रुवसम्म फैलिएको महासागर –आन्द्र महासागर
3. दक्षिणी ध्रुवीय महासागर –कुमेरु
4. उत्तरी ध्रुवीय महासागर –सुमेरु
A. 1 मात्र सहि
B. 2 मात्र सहि
C. सबै सहि
D. सबै गलत

२६. हेटौडा औद्योगिक क्षेत्रको स्थापना कहिले भएको हो ?

- A. वि.सं.२०१६
B. वि.सं.२०२०
C. वि.सं.२०२९
D. वि.सं.२०३०

२७. नेपालले WTO को सदस्यता कहिले प्राप्त गरेको हो ?

- A. २४ अक्टोबर २००३
B. १४ डिसेम्बर २००५
C. २३ अप्रिल २००४
D. १० जनावरी २००६

२८. I am a state यो भनाई कसको हो ?

- A. मुसोलिनी
B. लुई पन्ध्रौँ
C. लुई साहौँ
D. लुई चौधौँ

२९. सबैभन्दा ठुलो शिशु ग्रह कुन हो ?

- A. सेरेस
B. साइरिस
C. फावे
D. पेरोक

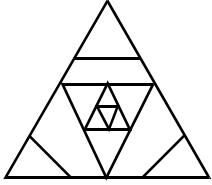
३०. अन्तरिक्षमा प्रवेश गर्ने तेस्रो राष्ट्र कुन हो ?

- A. फ्रान्स
B. रुस
C. अमेरिका
D. चीन

३१. A ले कुनै काम १८ दिनमा सकछ । B ले उक्त काम १५ दिनमा सकछ । यदि B ले १० दिन सम्म उक्त काम गरी छोड्यो भने A ले उक्त काम कति दिनमा सकला ?

- A. ५
B. ७
C. ६
D. ८

३२. तलको चित्रमा त्रिभुजको संख्या पत्ता लगाउनुहोस् ?



A. 16

C. 14

B. 15

D. 13

३३. सृष्टि र अनिता साथि हुन् । सागर श्यामको भाई र खेमको छोरा हो । श्यामले अञ्जुसँग विवाह गरेको छ । श्यामको एकमात्र बहिनी सृष्टि हो भने खेम अञ्जुको के नाता पर्छ ?

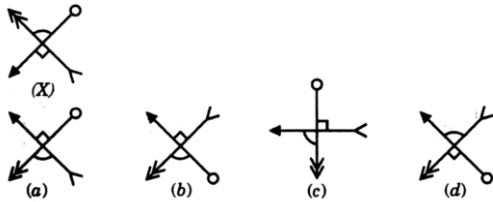
A. बुबा

C. ममा

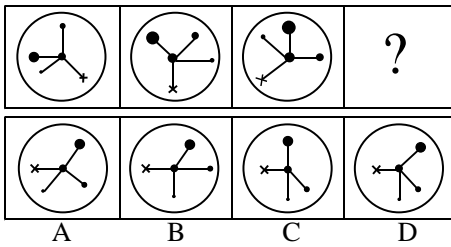
B. ससुरा

D. भाई

३४. तलको चित्रको पानी आकृति पत्ता लगाउनुहोस् ?



३५. सहि विकल्प छानी तलको चित्र पुरा गर्नुहोस् ?



३६. ६ देखी ३४ सम्मका ५ ले भाग जाने रुढ संख्याहरुको औसत कति हुन्छ ?

A. १८

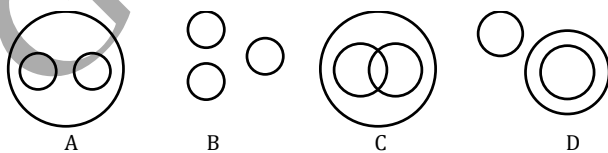
C. २४

B. २०

D. ३०

३७. तलको सही सम्बन्ध देखाउने भेनचित्र छान्नुहोस् ।

मानिस, खेलाडी, पुरुष



३८. २० पैसाका र २५ पैसाका गरी जम्मा ३२४ वटा सिक्काको जम्मा मूल्य ७१ छ भने २५ पैसाका सिक्काको संख्या कति होला ?


A. १२०

C. १४४

B. १२४

D. २००

३९. तलको चित्रमा त्रिभुजहरूको संख्या कति होला ?



- A. 8
B. 20
C. 24
D. 28

४०. एउटा घडि ३९ दिनमा १ मिनेट १८ सेकेण्ड ढिला जान्छ भने १ दिनमा कति समय ढिला जान्छ होला ?

- A. १ सेकेण्ड
B. २ सेकेण्ड
C. ३ सेकेण्ड
D. ४ सेकेण्ड

४१. If 'orange' is called 'butter', 'butter' is called 'soap', 'soap' is called 'ink', 'ink' is called 'honey' and 'honey' is called 'orange', which of the following is used for washing clothes ?

- A. Honey
B. Butter
C. Orange
D. Ink

४२. Find the missing term in the following series ?

AI, BJ, CK, ?

- A. DL
B. DM
C. GH
D. LM

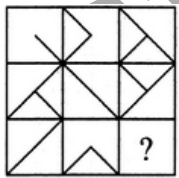
४३. रमेश सीता र हेमराजको उमेरको कुल योग ८० वर्षको छ। तीन वर्ष अघि उनीहरूको कुल उमेर कति थियो ?

- A. ७१ वर्ष
B. ७२ वर्ष
C. ७४ वर्ष
D. ७७ वर्ष

४४. Arrange the following in a meaningful sequence:

1. Rain 2. Monsoon 3. Rescue 4. Flood 5. Shelter 6. Relief
- A. 1,2,3,4,5,6
B. 1,2,4,5,3,6
C. 2,1,4,3,5,6
D. 4,1,2,3,5,6

४५. दिइएको विकल्पहरूमध्येबाट सबभन्दा मिल्ने विकल्प 1, 2, 3, 4 छनौट गर्नुहोस।



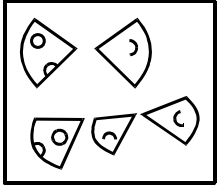
(1) (2) (3) (4)

४६. Choose the missing term out of the given alternative :

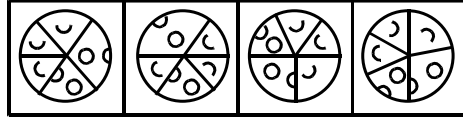
J2Z, K4X, I7V, ?, HI6R, M22P

- A. I11T
B. L11S
C. L12T
D. L11T

47. चित्र X मा दिएका चित्रहरूलाई जोडेर दिइएका विकल्पमध्ये कुन पूर्ण चित्र बनाउन सकिन्छ ?



(X)



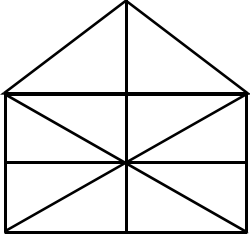
(a)

(b)

(c)

(d)

48. त्रिभुजको संख्या कति छ ?



A. 17

C. 25

B. 21

D. 13

49. Hamlet is related to village in the same way as metro police is related to?

A. Urban

C. District

B. City

D. Place

50. तलको चित्रमा पानीमा देखिने चित्र के हुन्छ ?



(X)



(a)



(b)



(c)



(d)

सफलताको शुभकामना

उत्तरकुञ्जिका

1	A	2	B	3	B	4	C	5	D
6	A	7	C	8	D	9	B	10	D
11	D	12	A	13	A	14	C	15	B
16	A	17	D	18	C	19	A	20	A
21	D	22	B	23	A	24	B	25	C
26	B	27	C	28	C	29	A	30	A
31	C	32	A	33	B	34	B	35	D
36	B	37	C	38	B	39	B	40	B
41	D	42	A	43	A	44	C	45	B
46	D	47	C	48	B	49	B	50	B