

लोक सेवा आयोग

अप्राविधिक तर्फका न्याय, प्रशासन, लेखापरीक्षण र संसद सेवा, राजपत्र अनंकित द्वितीय श्रेणी, खरिदार वा सो सरह पदको खुला प्रतियोगितात्मक परीक्षाको नमुना प्रश्नपत्र

मिति : २०७९।०५।१२ गते

KEY [B]

समय : ४५ मिनेट

सेट : ८

पूर्णाङ्क : १००

विषय : सामान्य ज्ञान तथा आधारभूत कार्यालय सीप परीक्षण

१. सूर्यको आर्कषण शक्ति पृथ्वीको आर्कषण शक्ति भन्दा कति गुणा बढी भएको अनुमान गरिएको छ ?

- A. २६ गुणा
B. २८ गुणा
C. ३० गुणा
D. ३२ गुणा

२. विश्वको सबैभन्दा ठूलो प्रायद्विप कुन हो ?

- A. जापान प्रायद्विप
B. ग्रीनल्याण्ड प्रायद्विप
C. बेष्टइण्डिज प्रायद्विप
D. अरब प्रायद्विप

३. पृथ्वीलाई २ भागमा विभाजन गरी पृथ्वीको मध्यभागबाट पूर्व पश्चिम दिशामा खिचिएको काल्पनिक रेखालाई के भनिन्छ ?

- A. प्रधानमध्यान् रेखा
B. भूमध्यरेखा
C. अक्षांश रेखा
D. देशान्तर रेखा

४. बागमति नदिको मुहान कुन हो ?

- A. मातार्तीर्थ
B. सपनतीर्थ
C. बाग्द्वार
D. बागभेश्वर

५. लाहुरेको स्वस्नी नामक कविताको रचनाकार को हुन् ?

- A. एलिना दुलाल
B. सुमिता खनाल
C. माया अधिकारी
D. सरिता तिवारी

६. काठमाडौँको अन्तिम मल्ल राजा जयप्रकाश मल्ल हुन् भने भक्तपुरको अन्तिम मल्ल राजा को हुन् ?

- A. रत्न मल्ल
B. रणजीत मल्ल
C. तेजनरसिंह मल्ल
D. प्रताप मल्ल

७. भुक्म्पमा परी स्वर्ग हुने मल्ल राजा को हुन् ?

- A. सुवर्ण मल्ल
B. सप मल्ल
C. अभय मल्ल
D. रत्न मल्ल

८. Earth Watch भनेको के हो ?

- A. वातावरणसम्बन्धी खोजअनुसन्धान कार्यहरूमा सहयोग पुर्याउदै आएको एक गैर सरकारी संस्था
- B. भुउपग्रह
- C. पृथ्वीलाई हेर्ने घडी
- D. प्राणी बाँच्न सक्ने किसिमको अनुकूल वातावरण

९. यदि रुसो नभएको भए फ्रान्सको राज्य क्रान्ति नै हुने थिएन भन्ने भनाई कसको हो ?

- A. नेपोलियन बोनापार्ट
- B. रुसो
- C. भोल्लेयर
- D. दिदरो

१०. साउदी अरेवियाले कतारमाथि लगाएको प्रतिबन्ध कहिले हटायो ?

- A. सन् २०२० जनावरी १
- B. सन् २०२० जनावरी २
- C. सन् २०२० जनावरी ४
- D. सन् २०२० जनावरी ६

११. लिम्बु भाषा कुन लिपिमा लेखिन्छ ?

- A. बाहौ
- B. सिरिजङ्गा
- C. रज्जना
- D. पाली

१२. शिक्षा विभागको पहिलो डाइरेक्टर के हुन् ?

- A. बबरजंग राणा
- B. कृष्णनरसिंह
- C. देव शमशेर
- D. वीर शमशेर

१३. नेपालले द्विपक्षिय श्रम सम्झौता गरेको मुलुक कतिओटा छ ?

- A. ६
- B. ७
- C. ८
- D. ९

१४. नेपाल प्रज्ञा प्रतिष्ठानको स्थापना कहिले भएको हो ?

- A. वि.सं. २०१२
- B. वि.सं. २०१३
- C. वि.सं. २०१४
- D. वि.सं. २०१५

१५. वाणिज्य परिषद्को अध्यक्ष को हुन् ?

- A. प्रधानमन्त्री
- B. वाणिज्य मन्त्री वा राज्यमन्त्री
- C. वाणिज्य मन्त्रालयको सचिव
- D. वाणिज्य विभाग महानिर्देशक

१६. नेपाल नीजि क्षेत्रमा स्थापित पहिलो विमान सेवा कुन हो ?

- A. यति एयरलाइन्स
- B. बुद्ध एयर
- C. नेपाल एयरवेज
- D. तारा

१७. योजनाबद्ध आर्थिक विकासको सुरुवात गर्ने विश्वको पहिलो राष्ट्र कुन हो ?

- A. बेलायत
B. जर्मनी
C. चीन
D. रसिया

१८. MRR Vaccine कुन सरुवा रोगबाट बचाव गर्नका लागि दिइन्छ ?

- A. दादुरा
B. हाँड
C. रुबेला
D. माथिका सबै

१९. गिनिज बुक अफ वर्ड रेकर्ड कहिलेदेखि प्रकाशन हुन थालेको हो ?

- A. सन् १९५०
B. सन् १९५३
C. सन् १९५५
D. सन् १९५६

२०. चियामा कुन तत्व पाइन्छ ?

- A. Morphine
B. Tenine
C. Cocaine
D. Nicotine

२१. वातावरण सम्बन्धी पहिलो अन्तराष्ट्रिय सम्मेलन कहिले र कहाँ भयो ?

- A. सन् १९७२ जुन ९-१६, स्वीडेनको स्टकहोममा
B. सन् १९७६ मार्च ११ मा नेदरल्याण्डको हेगमा
C. सन् १९७७ मा केन्याको नैरवीमा
D. सन् १९८८ मा क्यानडाको टोरन्टोमा

२२. CIBT नेपाल कति औं राष्ट्र हो ?

- A. १४
B. १६
C. १८
D. २०

२३. CITES के सँग सम्बन्धित छ ?

- A. हिमालको संरक्षण
B. पुरातात्विक सम्पदाको संरक्षण
C. समुन्द्रको संरक्षण
D. लोपोन्मुख जीवजन्तु र पशुपंक्षीको संरक्षण

२४. प्रधानमन्त्री खड्ग प्रसाद शर्मा ओली ले दोस्रो पटक प्रतिनिधि सभा विगठन कहिले गरेका हुन् ?

- A. वि.सं. २०७७ जेठ ८
B. वि.सं. २०७८ जेठ ८
C. वि.सं. २०७७ असार ५
D. वि.सं. २०७८ असार ५

२५. को लागि पहिलो पहिलो स्थाइ प्रतिनिधि को हुन् ?

- A. मातृका प्रसाद कोइराला
B. ज्ञानचन्द्र आचार्य
C. ऋषिकेश शाह
D. पदमबहादुर क्षेत्री

२६. क्रिकेटको जन्मभूमि भनेर कुन देशलाई चिनिन्छ ?

- A. फ्रान्स
B. अष्ट्रेलिया
C. वेष्ट इन्डिज
D. इङ्ल्याण्ड

२७. को सहयोगको बारेमा लेख्नुहोस् ।

- | | |
|--------------------------|-----------------------|
| a. आतंकवाद विरुद्ध लगानी | 1. श्रीलंका |
| b. गरिबी निवारण | 2. भारत |
| c. प्रविधि | 3. थाइल्याण्ड |
| d. जनस्वास्थ्य | 4. नेपाल |
| A. a-1, b-2, c-3, d-4 | C. a-2, b-4, c-1, d-3 |
| B. a-4, b-3, c-2, d-1 | D. a-2, b-1, c-3, d-4 |

२८. मा सर्वप्रथम भिटो प्रयोग गर्ने देश कुन हो ?

- | | |
|------------|------------|
| A. फ्रान्स | C. अमेरिका |
| B. चीन | D. रुस |

२९. इन्टरनेशनल बुमन अफ करेज अवार्ड 2021 कसले प्राप्त गरेको हुन् ?

- | | |
|--------------------|------------------------|
| A. मुस्कान खातुन | C. पासाड ल्हामु शेर्पा |
| B. कामीरिता शेर्पा | D. रुबी राणा |

३०. अन्तरिक्षमा प्रयोगशाला निर्माण गर्ने प्रथम देश कुन हो ?

- | | |
|------------|---------|
| A. रुस | C. चिन |
| B. अमेरिका | D. भारत |

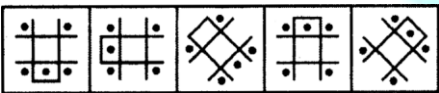
३१. यदि Birds लाई Wings जस्तै Fish लाई के भनिन्छ ?

- | | |
|---------|----------|
| A. Tail | C. Scale |
| B. Gill | D. Fin |

३२. यदि कुन कोड भाषामा EARTH लाई MQFSV ले कोड गरिन्छ भने लाई कसरी कोड गरिन्छ ?

- | | |
|----------|----------|
| A. VMQSF | C. VQMSF |
| B. VMQFS | D. VMFQS |

३३. समूहमा नमिल्ने चित्र पत्ता लगाउनुहोस् ।



- a b c d e

३४. सिता ४ कि.मि उत्तर गएर बायाँतर्फ मोडिएर २ कि.मि. अगाडि बढिन् । पुनः बायाँतर्फ मोडिएर ४ कि.मि अगाडि गइन् भने उनी शुरुको बिन्दुबाट कति टाढा पुगिन् ।

- | | |
|------------|------------|
| A. 4 कि.मि | C. 2 कि.मि |
| B. 3 कि.मि | D. 5 कि.मि |

३५. सुमन विद्यालयको वार्षिक परीक्षामा पास हुने विद्यार्थीमध्ये सुरुबाट 16 औं स्थानमा र अन्तबाट 29 औं स्थानमा पर्दछन् उक्त परीक्षामा 6 जना विद्यार्थी सामेल भएनन् र 5 जना विद्यार्थी फेल भए भने कक्षामा कति विद्यार्थी रहेछन् ?

- A. 40
B. 42
C. 52
D. 55

३६. तल दिइएका संख्याहरूमा नमिल्ने संख्या कुन हुन्छ ?

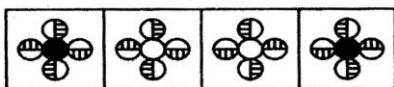
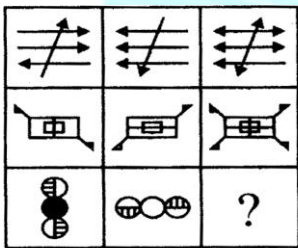
- A. 13
B. 17
C. 23
D. 63

३७. संख्या पहिले र दोस्रो जस्तै सम्बन्ध हुने तेस्रो र चौथो संख्या कुन कुन हुन्छन् ?

$$68 : 130 :: ? : 350$$

- A. 122
B. 222
C. 232
D. 242

३८. मेट्रिक्स पूरा गर्नुहोस् ।



- a b c d

३९. भुलवस एउटा विद्यार्थीको अंक 63 को सट्टामा 83 राखेर औसत निकालिएछ जसले गर्दा सम्पूर्ण विद्यार्थीको औसत अंकमा $\frac{1}{2}$ ले वृद्धि हुन गयो भने उक्त कक्षामा कति विद्यार्थी रहेछन् ?

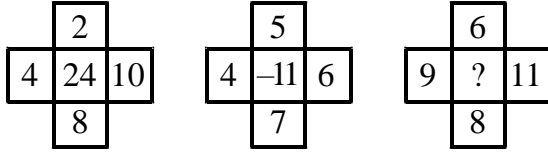
- A. 10
B. 20
C. 40
D. 73

४०. दिइएका संख्याको विशेषता सँग मिल्ने विकल्प छनोट गर्नुहोस् ।

(5, 24, 26)

- A. 6, 35, 37
B. 7, 48, 51
C. 8, 48, 43
D. 4, 15, 18

४१. तलको चित्रमा छुटेको संख्या कति हुन्छ ? पत्ता लगाउनुहोस् ।



- A. 42
B. 48
C. 51
D. 58

४२. मेट्रिक्सको खाली ठाउँ (?) मा उपयुक्त ठाउँ छनोट गर्नुहोस् ।

1	3	7
5	12	14
25	?	28
125	192	56

- A. 64
B. 56
C. 48
D. 40

४३. 6 जना मानिस र 8 केटाले कुनै 10 काम दिनमा गर्न सक्छन् । सोहि काम 26 मानिस र 48 केटाहरुले 2 दिनमा गर्न सक्छन् भने 15 मानिस र 20 केटाहरुले उक्त काम कति दिनमा गर्न सक्छन् ?

- A. 4 Days
B. 5 Days
C. 6 Days
D. 7 Days

४४. 3000 को $\frac{2}{3}$ को आधाको $\frac{1}{4}$ को $\frac{1}{5}$ कति हुन्छ ?

- A. 25
B. 50
C. 75
D. 125

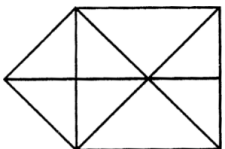
४५. आफ्नो बर्गाकार जग्गामा तारबार गर्दा कुनै किसानलाई एक side मा 27 वटा खम्बा आवश्यक छ भने उसलाई जम्मा कति खम्बा आवश्यक पर्ला ?

- A. 100
B. 104
C. 108
D. None of These

४६. एउटा संख्या 216 लाई भुलबस 261 लेखिएको रहेछ । भुलवश बढेको प्रतिशत नजिकको पूर्णसङ्ख्या पत्ता लगाउनुहोस् ।

- A. 19 प्रतिशत
B. 23 प्रतिशत
C. 21 प्रतिशत
D. 22 प्रतिशत

४७. चित्रमा भएको त्रिभुजको संख्या पत्ता लगाउनुहोस् ।



A. 17

C. 20

B. 19

D. 22

४८. दिइएका शब्दहरूलाई अर्थपूर्ण क्रममा मिलाएर राख्नुहोस् ।

(1) Family (2) Community (3) Member (4) Locality (5) Country

A. 3, 1, 2, 4, 5

C. 3, 1, 4, 2, 5

B. 3, 1, 2, 5, 4

D. 3, 1, 4, 5, 2

४९. चित्र A र B को जस्तै C र D को सम्बन्ध स्थापित हुने उपयुक्त विकल्प छनोट गर्नुहोस् ।



A B C D

1 2 3 4 5

५०. A sport jacket marked \$ 48 is offered at a discount of 25% during a stock out sales. At this reduced price the dealer makes a profit of 20% on the cost. The cost to the dealer is

A. \$29

C. \$ 32

B. \$ 30

D. \$ 36

सफलताको शुभकामना

गुरुमन्त्र एकेडेमी
सफलताको एक मात्र मन्त्र